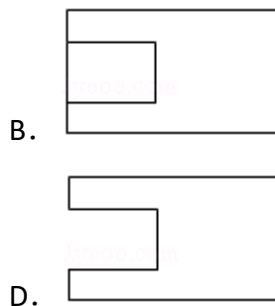
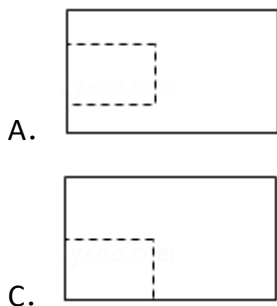
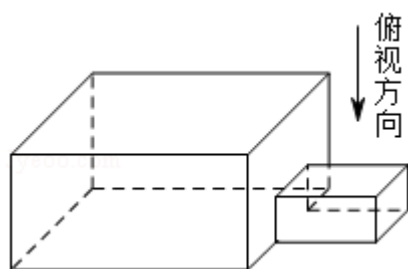


2018年全国统一高考数学试卷（理科）（新课标Ⅲ）

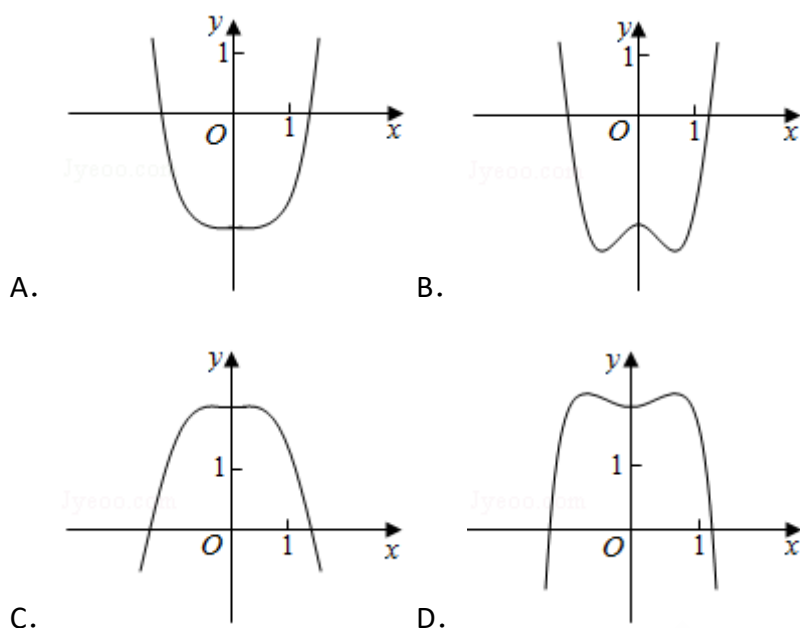
一、选择题：本题共12小题，每小题5分，共60分。在每小题给出的四个选项中，只有一项是符合题目要求的。

1. (5分) 已知集合 $A = \{x | x - 1 \geq 0\}$, $B = \{0, 1, 2\}$, 则 $A \cap B =$ ()
 A. $\{0\}$ B. $\{1\}$ C. $\{1, 2\}$ D. $\{0, 1, 2\}$
2. (5分) $(1+i)(2-i) =$ ()
 A. $-3-i$ B. $-3+i$ C. $3-i$ D. $3+i$
3. (5分) 中国古建筑借助榫卯将木构件连接起来. 构件的凸出部分叫榫头, 凹进部分叫卯眼, 图中木构件右边的小长方体是榫头. 若如图摆放的木构件与某一带卯眼的木构件咬合成长方体, 则咬合时带卯眼的木构件的俯视图可以是 ()



4. (5分) 若 $\sin \alpha = \frac{1}{3}$, 则 $\cos 2\alpha =$ ()
 A. $\frac{8}{9}$ B. $\frac{7}{9}$ C. $-\frac{7}{9}$ D. $-\frac{8}{9}$
5. (5分) $(x^2 + \frac{2}{x})^5$ 的展开式中 x^4 的系数为 ()
 A. 10 B. 20 C. 40 D. 80
6. (5分) 直线 $x+y+2=0$ 分别与 x 轴, y 轴交于A, B两点, 点P在圆 $(x-2)^2+y^2=2$ 上, 则 $\triangle ABP$ 面积的取值范围是 ()
 A. $[2, 6]$ B. $[4, 8]$ C. $[\sqrt{2}, 3\sqrt{2}]$ D. $[2\sqrt{2}, 3\sqrt{2}]$

7. (5分) 函数 $y = -x^4 + x^2 + 2$ 的图象大致为 ()



8. (5分) 某群体中的每位成员使用移动支付的概率都为 p , 各成员的支付方式相互独立. 设 X 为该群体的10位成员中使用移动支付的人数, $DX=2.4$, $P(X=4) < P(X=6)$, 则 $p =$ ()

- A. 0.7 B. 0.6 C. 0.4 D. 0.3

9. (5分) $\triangle ABC$ 的内角 A, B, C 的对边分别为 a, b, c . 若 $\triangle ABC$ 的面积为 $\frac{a^2 + b^2 - c^2}{4}$, 则 $C =$ ()

- A. $\frac{\pi}{2}$ B. $\frac{\pi}{3}$ C. $\frac{\pi}{4}$ D. $\frac{\pi}{6}$

10. (5分) 设 A, B, C, D 是同一个半径为4的球的球面上四点, $\triangle ABC$ 为等边三角形且面积为 $9\sqrt{3}$, 则三棱锥 $D-ABC$ 体积的最大值为 ()

- A. $12\sqrt{3}$ B. $18\sqrt{3}$ C. $24\sqrt{3}$ D. $54\sqrt{3}$

11. (5分) 设 F_1, F_2 是双曲线 $C: \frac{x^2}{a^2} - \frac{y^2}{b^2} = 1$ ($a > 0, b > 0$) 的左, 右焦点, O

是坐标原点. 过 F_2 作 C 的一条渐近线的垂线, 垂足为 P , 若 $|PF_1| = \sqrt{6}|OP|$, 则 C 的离心率为 ()

- A. $\sqrt{5}$ B. 2 C. $\sqrt{3}$ D. $\sqrt{2}$

12. (5分) 设 $a = \log_{0.2} 0.3$, $b = \log_2 0.3$, 则 ()

- A. $a+b < ab < 0$ B. $ab < a+b < 0$ C. $a+b < 0 < ab$ D. $ab < 0 < a+b$

二、填空题：本题共4小题，每小题5分，共20分。

13. (5分) 已知向量 $\vec{a} = (1, 2)$, $\vec{b} = (2, -2)$, $\vec{c} = (1, \lambda)$. 若 $\vec{c} \parallel (2\vec{a} + \vec{b})$, 则 $\lambda =$ _____.

14. (5分) 曲线 $y = (ax+1)e^x$ 在点 $(0, 1)$ 处的切线的斜率为 -2 , 则 $a =$ _____.

15. (5分) 函数 $f(x) = \cos\left(3x + \frac{\pi}{6}\right)$ 在 $[0, \pi]$ 的零点个数为_____.

16. (5分) 已知点 $M(-1, 1)$ 和抛物线 $C: y^2 = 4x$, 过 C 的焦点且斜率为 k 的直线与 C 交于 A, B 两点. 若 $\angle AMB = 90^\circ$, 则 $k =$ _____.

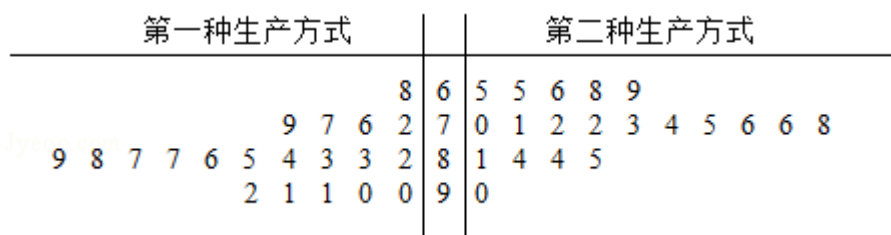
三、解答题：共70分。解答应写出文字说明、证明过程或演算步骤。第17~21题为必考题，每个试题考生都必须作答。第22、23题为选考题，考生根据要求作答。（一）必考题：共60分。

17. (12分) 等比数列 $\{a_n\}$ 中, $a_1 = 1$, $a_5 = 4a_3$.

(1) 求 $\{a_n\}$ 的通项公式;

(2) 记 S_n 为 $\{a_n\}$ 的前 n 项和. 若 $S_m = 63$, 求 m .

18. (12分) 某工厂为提高生产效率, 开展技术创新活动, 提出了完成某项生产任务的两种新的生产方式. 为比较两种生产方式的效率, 选取40名工人, 将他们随机分成两组, 每组20人. 第一组工人用第一种生产方式, 第二组工人用第二种生产方式. 根据工人完成生产任务的工作时间(单位: min)绘制了如下茎叶图:



- (1) 根据茎叶图判断哪种生产方式的效率更高? 并说明理由;
- (2) 求40名工人完成生产任务所需时间的中位数 m , 并将完成生产任务所需时间超过 m 和不超过 m 的工人数填入下面的列联表:

	超过 m	不超过 m
第一种生产方式		
第二种生产方式		

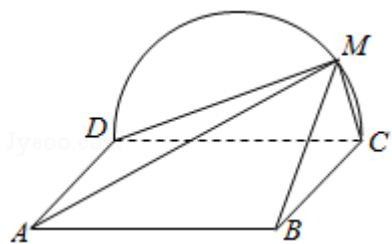
- (3) 根据(2)中的列联表, 能否有99%的把握认为两种生产方式的效率有差异?

附: $K^2 = \frac{n(ad-bc)^2}{(a+b)(c+d)(a+c)(b+d)}$,

P ($K^2 \geq k$)	0.050	0.010	0.001
k	3.841	6.635	10.828

19. (12分) 如图, 边长为2的正方形ABCD所在的平面与半圆弧 \widehat{CD} 所在平面垂直, M是 \widehat{CD} 上异于C, D的点.

- (1) 证明: 平面AMD \perp 平面BMC;
 (2) 当三棱锥M - ABC体积最大时, 求面MAB与面MCD所成二面角的正弦值.



20. (12分) 已知斜率为k的直线l与椭圆C: $\frac{x^2}{4} + \frac{y^2}{3} = 1$ 交于A, B两点, 线段AB

的中点为M (1, m) (m > 0).

- (1) 证明: $k < -\frac{1}{2}$;
 (2) 设F为C的右焦点, P为C上一点, 且 $\vec{FP} + \vec{FA} + \vec{FB} = \vec{0}$. 证明: $|\vec{FA}|, |\vec{FP}|, |\vec{FB}|$ 成等差数列, 并求该数列的公差.

21. (12分) 已知函数 $f(x) = (2+x+ax^2) \ln(1+x) - 2x$.

- (1) 若a=0, 证明: 当 $-1 < x < 0$ 时, $f(x) < 0$; 当 $x > 0$ 时, $f(x) > 0$;
 (2) 若x=0是f(x)的极大值点, 求a.

(二) 选考题：共10分。请考生在第22、23题中任选一题作答。如果多做，则按所做的第一题计分。[选修4-4：坐标系与参数方程] (10分)

22. (10分) 在平面直角坐标系 xOy 中， $\odot O$ 的参数方程为 $\begin{cases} x=\cos\theta \\ y=\sin\theta \end{cases}$ ，(θ 为参数)，过点 $(0, -\sqrt{2})$ 且倾斜角为 α 的直线 l 与 $\odot O$ 交于A, B两点.
- (1) 求 α 的取值范围；
 - (2) 求AB中点P的轨迹的参数方程.

[选修4-5：不等式选讲] (10分)

23. 设函数 $f(x) = |2x+1| + |x-1|$.
- (1) 画出 $y=f(x)$ 的图象；
 - (2) 当 $x \in [0, +\infty)$ 时， $f(x) \leq ax+b$ ，求 $a+b$ 的最小值.

