

2014年普通高等学校招生全国统一考试（福建卷）

数学（文科）

一. 选择题

1. 若集合 $P = \{x | 2 \leq x < 4\}$, $Q = \{x | x \geq 3\}$, 则 $P \cap Q$ 等于 ()

A. $\{x | 3 \leq x < 4\}$ B. $\{x | 3 < x < 4\}$ C. $\{x | 2 \leq x < 3\}$ D. $\{x | 2 \leq x \leq 3\}$

【答案】 A

【解析】

试题分析：由已知， $P \cap Q = \{x | 3 \leq x < 4\}$ ，选 A.

考点：集合的运算.

2. 复数 $(3+2i)i$ 等于 ()

A. $-2-3i$ B. $-2+3i$ C. $2-3i$ D. $2+3i$

【答案】 B

【解析】

试题分析： $(3+2i)i = 3i + 2i \cdot i = -2 + 3i$ ，选 B.

考点：复数的四则运算.

3. 以边长为 1 的正方形的一边所在直线为旋转轴，将该正方形旋转一周所得圆柱的侧面积等于 ()

A. 2π B. π C. 2 D. 1

【答案】 A

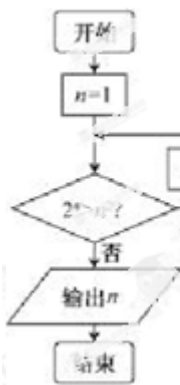
【解析】

试题分析：由已知得，所得圆柱的底面半径和高均为 1，所以圆柱的侧面积为 2π ，选 A.

考点：旋转体的侧面积.

4. 阅读右图所示的程序框图，运行相应的程序，输出的 n 的值为 ()

A. 1 B. 2 C. 3 D. 4



【答案】 B

【解析】

试题分析：执行程序， $n=1$ ，满足条件 $2^n > n^2$ ， $n=2$ ；

不满足条件 $2^n > n^2$ ，输出 $n=2$ ，选 B。

考点：算法与程序框图。

5. 命题 “ $\forall x \in [0, +\infty), x^3 + x \geq 0$ ” 的否定是 ()

- A. $\forall x \in (-\infty, 0), x^3 + x < 0$ B. $\forall x \in (-\infty, 0), x^3 + x \geq 0$
 C. $\exists x_0 \in [0, +\infty), x_0^3 + x_0 < 0$ D. $\exists x_0 \in [0, +\infty), x_0^3 + x_0 \geq 0$

【答案】 C

【解析】

试题分析：全称命题的否定是存在性命题，所以，命题 “ $\forall x \in [0, +\infty), x^3 + x \geq 0$ ” 的否定是

$\exists x_0 \in [0, +\infty), x_0^3 + x_0 < 0$ ，选 C。

考点：全称命题与存在性命题。

6. 已知直线 l 过圆 $x^2 + (y-3)^2 = 4$ 的圆心，且与直线 $x+y+1=0$ 垂直，则 l 的方程是 ()

- A. $x+y-2=0$ B. $x-y+2=0$ C. $x+y-3=0$ D. $x-y+3=0$

【答案】 D

【解析】

试题分析：由已知得，圆心为 $(0,3)$ ，所求直线的斜率为 1，由直线方程的斜截式得， $y=x+3$ ，即

$x-y+3=0$ ，故选 D。

考点：圆的方程，直线的垂直，直线方程.

7. 将函数 $y = \sin x$ 的图象向左平移 $\frac{\pi}{2}$ 个单位，得到函数 $y = f(x)$ 的函数图象，则下列说法正确的是

()

A. $y = f(x)$ 是奇函数

B. $y = f(x)$ 的周期是 π

C. $y = f(x)$ 的图象关于直线 $x = \frac{\pi}{2}$ 对称

D. $y = f(x)$ 的图象关于点 $(-\frac{\pi}{2}, 0)$ 对称

【答案】 D

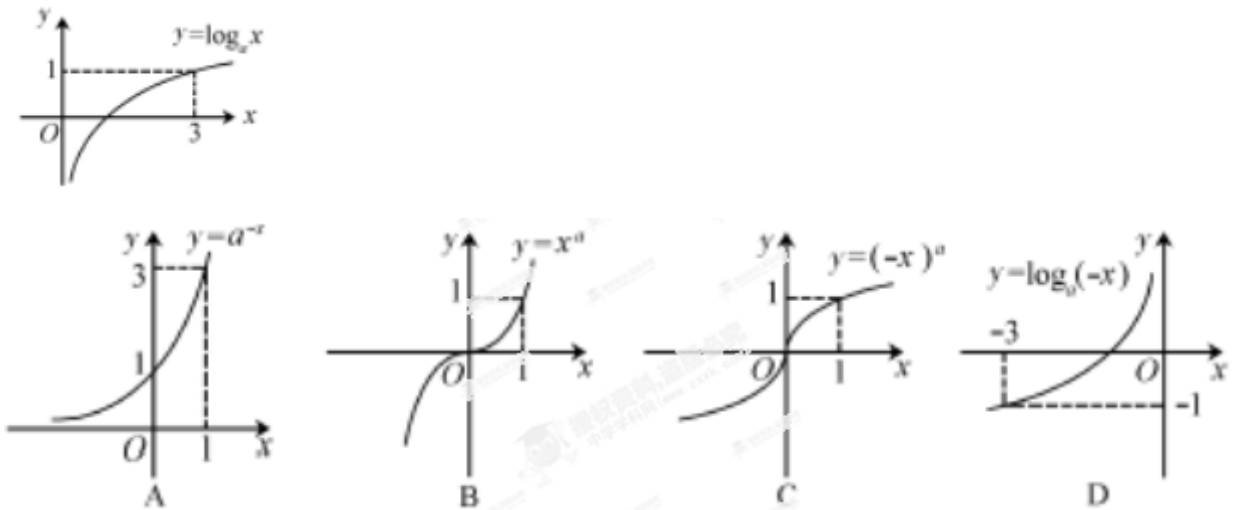
【解析】

试题分析：将函数 $y = \sin x$ 的图象向左平移 $\frac{\pi}{2}$ 个单位，得到函数 $y = \sin(x + \frac{\pi}{2}) = \cos x$,

因为 $y = \cos(-\frac{\pi}{2}) = 0$ ，所以 $y = f(x)$ 的图象关于点 $(-\frac{\pi}{2}, 0)$ 对称，选 D.

考点：三角函数图象的变换，三角函数诱导公式，学科网三角函数的图象和性质.

8. 若函数 $y = \log_a x$ ($a > 0$, 且 $a \neq 1$) 的图象如右图所示，则下列函数正确的是 ()



【答案】 B

【解析】

试题分析：由函数 $y = \log_a x$ ($a > 0$, 且 $a \neq 1$) 的图象可知， $a = 3$ ，所以， $y = a^{-x}$ ， $y = (-x)^3 = -x^3$ 及

$y = \log_3(-x)$ 均为减函数，只有 $y = x^3$ 是增函数，选 B.

考点：幂函数、指数函数、对数函数的图象和性质.

9. 要制作一个容积为 $4m^3$ ，高为 1m 的无盖长方体容器，已知该容器的底面造价是每平方米 20 元，侧面造价是每平方米 10 元，则该容器的最低总造价是 ()

A. 80 元 B. 120 元 C. 160 元 D. 240 元

【答案】 C

【解析】

试题分析：设长方体底面边长分别为 x, y ，则 $y = \frac{4}{x}$ ，所以容器总造价为

$z = 2(x+y) \times 10 + 20xy = 20(x + \frac{4}{x}) + 80$ ，学科网由基本不等式得， $z = 20(x + \frac{4}{x}) + 80 \geq 160$ ，当且仅当

底面为边长为 2 的正方形时，总造价最低，选 C.

考点：函数的应用，基本不等式的应用.

10. 设 M 为平行四边形 ABCD 对角线的交点，O 为平行四边形 ABCD 所在平面内任意一点，则

$\overrightarrow{OA} + \overrightarrow{OB} + \overrightarrow{OC} + \overrightarrow{OD}$ 等于 ()

A. \overrightarrow{OM} B. $2\overrightarrow{OM}$ C. $3\overrightarrow{OM}$ D. $4\overrightarrow{OM}$

【答案】 D

【解析】

试题分析：由已知得， $\overrightarrow{OA} = \overrightarrow{OM} + \frac{1}{2}\overrightarrow{CA}$ ， $\overrightarrow{OB} = \overrightarrow{OM} + \frac{1}{2}\overrightarrow{DB}$ ， $\overrightarrow{OC} = \overrightarrow{OM} + \frac{1}{2}\overrightarrow{AC}$ ， $\overrightarrow{OD} = \overrightarrow{OM} + \frac{1}{2}\overrightarrow{BD}$ ，

而 $\overrightarrow{CA} = -\overrightarrow{AC}$ ， $\overrightarrow{DB} = -\overrightarrow{BD}$ ，所以 $\overrightarrow{OA} + \overrightarrow{OB} + \overrightarrow{OC} + \overrightarrow{OD} = 4\overrightarrow{OM}$ ，选 D.

考点：平面向量的线性运算，相反向量

11. 已知圆 $C: (x-a)^2 + (y-b)^2 = 1$ ，设平面区域 $\Omega = \begin{cases} x+y-7 \leq 0, \\ x-y+3 \geq 0, \\ y \geq 0 \end{cases}$ ，若圆心 $C \in \Omega$ ，且圆 C 与 x 轴相切，

则 $a^2 + b^2$ 的最大值为 ()

A. 5 B. 29 C. 37 D. 49

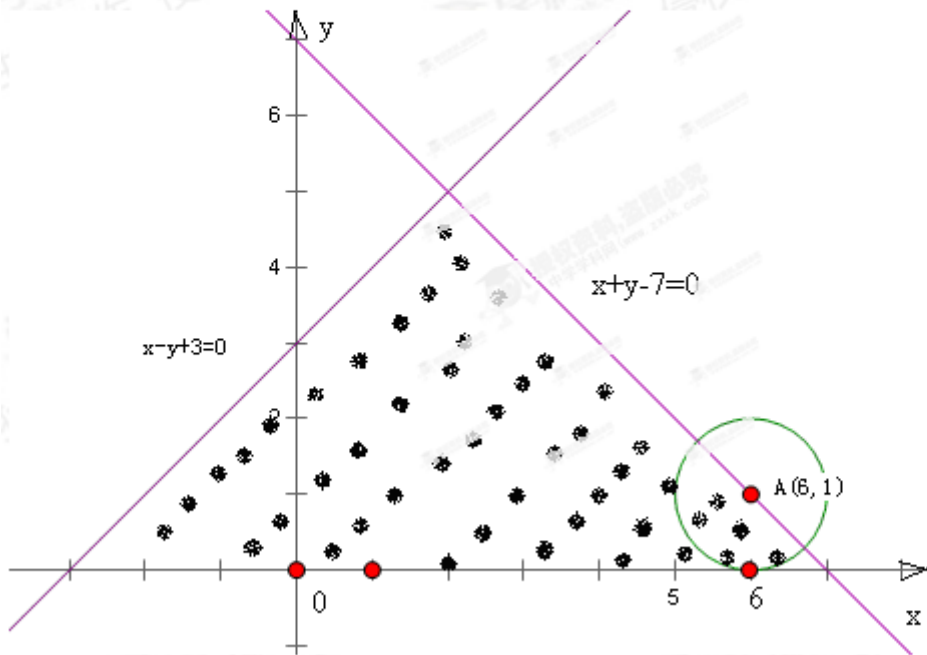
【答案】 C

【解析】

试题分析： $a^2 + b^2$ 即圆心 (a, b) 到原点 O 距离的平方.

画出可行域，由于圆心 $C \in \Omega$ ，圆的半径为1，所以，当圆心为 $A(6, 1)$ 时， $|OA|$ 最大，此时

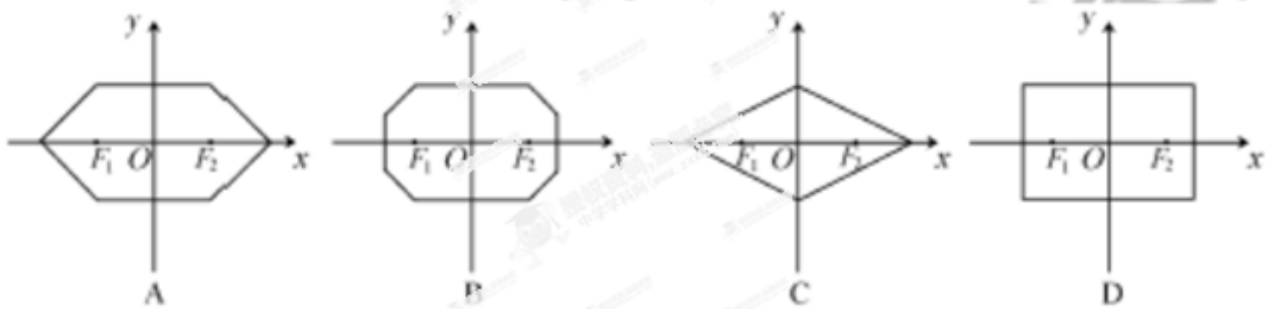
$(a^2 + b^2)_{\max} = 6^2 + 1^2 = 37$ ，选C.



考点：简单线性规划的应用，直线与圆的位置关系.

12.在平面直角坐标系中，两点 $P_1(x_1, y_1), P_2(x_2, y_2)$ 间的“L-距离”定义为 $\|P_1P_2\| = |x_1 - x_2| + |y_1 - y_2|$.则平面内与 x 轴上两个不同的定点 F_1, F_2 的“L-距离”之和等于定值（大于 $\|F_1F_2\|$ ）的点的轨迹可以是

()



【答案】 A

【解析】

试题分析：不妨设 $F_1(-1, 0), F_2(1, 0)$ ， $P(x, y)$ 是平面内符合条件的点，则由“L-距离”定义得

$$|x+1|+|y|+|x-1|+|y|=2a \quad (a>0, 2a>||F_1F_2|=2).$$

$$\text{即} \begin{cases} x \leq -1 \\ y > 0 \end{cases} \text{时, } x-y+a=0; \begin{cases} x \leq -1 \\ y < 0 \end{cases} \text{时, } x+y+a=0; \begin{cases} -1 < x \leq 1 \\ y > 0 \end{cases} \text{时, } y=a-1 > 0; \begin{cases} -1 < x \leq 1 \\ y < 0 \end{cases} \text{时,}$$

$$y=1-a; \begin{cases} x > 1 \\ y > 0 \end{cases} \text{时, } x+y-a=0; \begin{cases} x > 1 \\ y < 0 \end{cases} \text{时, } x-y-a=0. \text{故选 } A.$$

考点：新定义，绝对值的概念，分类讨论思想.

二、填空题

13.如图，在边长为1的正方形中，随机撒1000粒豆子，有180粒落到阴影部分，据此估计阴影部分的面积为_____.



【答案】0.18

【解析】

试题分析：由随机数的概念及几何概型得， $\frac{S_{\text{阴影}}}{1} = \frac{180}{1000}$ ，所以估计阴影部分的面积为0.18.

考点：随机数，几何概型.

14.在 $\triangle ABC$ 中， $A=60^\circ$ ， $AC=2$ ， $BC=\sqrt{3}$ ，则 AB 等于_____.

【答案】1

【解析】

试题分析：由余弦定理得， $(\sqrt{3})^2 = AB^2 + 2^2 - 2 \cdot AB \times 2 \times \cos 60^\circ$ ，解得 $AB=1$.

考点：余弦定理的应用.

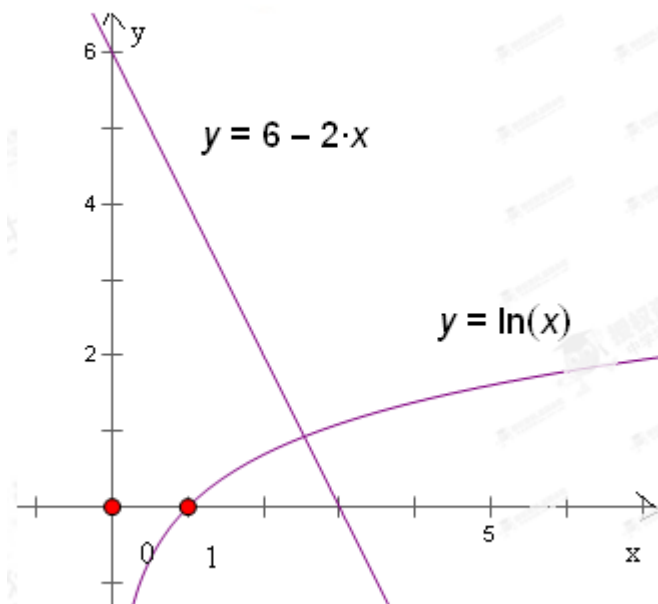
15. (函数 $f(x) = \begin{cases} x^2 - 2, & x \leq 0 \\ 2x - 6 + \ln x, & x > 0 \end{cases}$ 的零点个数是_____.

【答案】2

【解析】

试题分析：令 $x^2 - 2 = 0$ 得， $x = \pm\sqrt{2}$ ，只有 $x = -\sqrt{2}$ 符合题意；

令 $2x - 6 + \ln x = 0$ 得， $6 - 2x = \ln x$ ，在同一坐标系内，画出 $y = 6 - 2x$, $y = \ln x$ 的图象，观察知交点有 1，所以零点个数是 2.



考点：分段函数，函数的零点，函数的图象和性质.

16. (已知集合 $\{a, b, c\} = \{0, 1, 2\}$ ，且下列三个关系：① $a \neq 2$ ② $b = 2$ ③ $c \neq 0$ 有且只有一个正确，则 $100a + 10b + c =$ _____ .

【答案】 201

【解析】

试题分析：由已知，若 $a \neq 2$ 正确，则 $a = 0$ 或 $a = 1$ ，即 $a = 0, b = 1, c = 2$ 或 $a = 0, b = 2, c = 1$ 或 $a = 1, b = 0, c = 2$ 或 $a = 1, b = 2, c = 0$ 均与“三个关系有且只有一个正确”矛盾；

若 $b = 2$ 正确，则 $a \neq 2$ 正确，不符合题意，所以， $c \neq 0$ 正确， $a = 2, b = 0, c = 1$ ，故 $100a + 10b + c = 201$.

考点：推理与证明.

三. 解答题：本大题共 6 小题，共 74 分.

17. ((本小题满分 12 分))

在等比数列 $\{a_n\}$ 中， $a_2 = 3, a_5 = 81$.

(1) 求 a_n ；

(2) 设 $b_n = \log_3 a_n$, 求数列 $\{b_n\}$ 的前 n 项和 S_n .

【答案】 (1) $a_n = 3^{n-1}$. (2) $S_n = \frac{n^2 - n}{2}$.

【解析】

试题分析: (1) 设 $\{a_n\}$ 的公比为 q , 依题意得方程组 $\begin{cases} a_1 q = 3 \\ a_1 q^4 = 81 \end{cases}$,

解得 $\begin{cases} a_1 = 1 \\ q = 3 \end{cases}$, 即可写出通项公式.

(2) 因为 $b_n = \log_3 a_n = n - 1$, 利用等差数列的求和公式即得.

试题解析: (1) 设 $\{a_n\}$ 的公比为 q , 依题意得

$$\begin{cases} a_1 q = 3 \\ a_1 q^4 = 81 \end{cases}$$

解得 $\begin{cases} a_1 = 1 \\ q = 3 \end{cases}$,

因此, $a_n = 3^{n-1}$.

(2) 因为 $b_n = \log_3 a_n = n - 1$,

所以数列 $\{b_n\}$ 的前 n 项和 $S_n = \frac{n(b_1 + b_n)}{2} = \frac{n^2 - n}{2}$.

考点: 等比数列、等差数列.

18. ((本小题满分 12 分))

已知函数 $f(x) = 2 \cos x(\sin x + \cos x)$.

(1) 求 $f(\frac{5\pi}{4})$ 的值.:

(2) 求函数 $f(x)$ 的最小正周期及单调递增区间.

【答案】 (1) $f(\frac{5\pi}{4}) = 2$; (2) $T = \pi$, $f(x)$ 的单调递增区间为 $[k\pi - \frac{3\pi}{8}, k\pi + \frac{\pi}{8}]$, $k \in Z$.

【解析】

试题分析：思路一：(1) 直接将 $\frac{5\pi}{4}$ 代入函数式，应用三角函数诱导公式计算。

(2) 应用和差倍半的三角函数公式，将函数化简 $\sqrt{2} \sin(2x + \frac{\pi}{4}) + 1$ 。

$$\text{得到 } T = \frac{2\pi}{2} = \pi.$$

$$\text{由 } 2k\pi - \frac{\pi}{2} \leq 2x + \frac{\pi}{4} \leq 2k\pi + \frac{\pi}{2}, k \in Z,$$

$$\text{解得 } k\pi - \frac{3\pi}{8} \leq x \leq k\pi + \frac{\pi}{8}, k \in Z.$$

思路二：先应用和差倍半的三角函数公式化简函数 $f(x) = 2 \sin x \cos x + 2 \cos^2 x$

$$= \sqrt{2} \sin(2x + \frac{\pi}{4}) + 1$$

(1) 将 $\frac{5\pi}{4}$ 代入函数式计算；

$$(2) T = \frac{2\pi}{2} = \pi$$

$$\text{由 } 2k\pi - \frac{\pi}{2} \leq 2x + \frac{\pi}{4} \leq 2k\pi + \frac{\pi}{2}, k \in Z,$$

$$\text{解得 } k\pi - \frac{3\pi}{8} \leq x \leq k\pi + \frac{\pi}{8}, k \in Z.$$

$$\text{试题解析：解法一：(1) } f(\frac{5\pi}{4}) = 2 \cos \frac{5\pi}{4} (\sin \frac{5\pi}{4} + \cos \frac{5\pi}{4})$$

$$= -2 \cos \frac{\pi}{4} (-\sin \frac{\pi}{4} - \cos \frac{\pi}{4})$$

$$= 2$$

(2) 因为 $f(x) = 2 \sin x \cos x + 2 \cos^2 x$

$$= \sin 2x + \cos 2x + 1$$

$$= \sqrt{2} \sin(2x + \frac{\pi}{4}) + 1.$$

$$\text{所以 } T = \frac{2\pi}{2} = \pi.$$

$$\text{由 } 2k\pi - \frac{\pi}{2} \leq 2x + \frac{\pi}{4} \leq 2k\pi + \frac{\pi}{2}, k \in Z,$$

$$\text{得 } k\pi - \frac{3\pi}{8} \leq x \leq k\pi + \frac{\pi}{8}, k \in Z,$$

所以 $f(x)$ 的单调递增区间为 $[k\pi - \frac{3\pi}{8}, k\pi + \frac{\pi}{8}], k \in Z$ 。

解法二：

因为 $f(x) = 2 \sin x \cos x + 2 \cos^2 x$

$$= \sin 2x + \cos 2x + 1$$

$$= \sqrt{2} \sin\left(2x + \frac{\pi}{4}\right) + 1$$

$$(1) f\left(\frac{5\pi}{4}\right) = \sqrt{2} \sin \frac{11\pi}{4} + 1 = \sqrt{2} \sin \frac{\pi}{4} + 1 = 2$$

$$(2) T = \frac{2\pi}{2} = \pi$$

$$\text{由 } 2k\pi - \frac{\pi}{2} \leq 2x + \frac{\pi}{4} \leq 2k\pi + \frac{\pi}{2}, k \in \mathbb{Z},$$

$$\text{得 } k\pi - \frac{3\pi}{8} \leq x \leq k\pi + \frac{\pi}{8}, k \in \mathbb{Z},$$

所以 $f(x)$ 的单调递增区间为 $\left[k\pi - \frac{3\pi}{8}, k\pi + \frac{\pi}{8}\right], k \in \mathbb{Z}$.

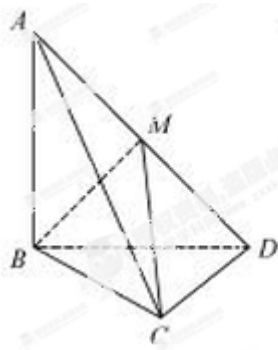
考点：和差倍半的三角函数公式，三角函数诱导公式，三角函数的图象和性质.

19. ((本小题满分 12 分))

如图，三棱锥 $A-BCD$ 中， $AB \perp$ 平面 $BCD, CD \perp BD$.

(1) 求证： $CD \perp$ 平面 ABD ；

(2) 若 $AB = BD = CD = 1$ ， M 为 AD 中点，求三棱锥 $A-MBC$ 的体积.



【答案】(1) 见解析 (2) $V_{A-MBC} = \frac{1}{12}$.

【解析】

试题分析:

(1) 由 $AB \perp$ 平面 BCD , $CD \subset$ 平面 BCD ,
得到 $AB \perp CD$.

进一步即得 $CD \perp$ 平面 ABD .

(2) 思路一: 由 $AB \perp$ 平面 BCD , 得 $AB \perp BD$.

确定 $S_{\triangle ABM} = \frac{1}{2} S_{\triangle ABD} = \frac{1}{4}$.

根据 $CD \perp$ 平面 ABD ,

知三棱锥 $C-ABM$ 的高 $h = CD = 1$,

得到三棱锥 $A-MBC$ 的体积 $V_{A-MBC} = V_{C-ABM}$.

思路二: 由 $AB \perp$ 平面 BCD 知, 平面 $ABD \perp$ 平面 BCD ,

根据平面 $ABD \cap$ 平面 $BCD = BD$,

通过过点 M 作 $MN \perp BD$ 交 BD 于点 N .

得到 $MN \perp$ 平面 BCD , 且 $MN = \frac{1}{2} AB = \frac{1}{2}$,

利用 $V_{A-MBC} = V_{A-BCD} - V_{M-BCD}$ 计算三棱锥 $A-MBC$ 的体积.

试题解析：解法一：

(1) $\because AB \perp$ 平面 BCD , $CD \subset$ 平面 BCD ,

$\therefore AB \perp CD$.

又 $\because CD \perp BD$, $AB \cap BD = B$,

$AB \subset$ 平面 ABD , $BD \subset$ 平面 ABD ,

$\therefore CD \perp$ 平面 ABD .

(2) 由 $AB \perp$ 平面 BCD , 得 $AB \perp BD$.

$\because AB = BD = 1$, $\therefore S_{\triangle ABD} = \frac{1}{2}$.

$\because M$ 是 AD 的中点,

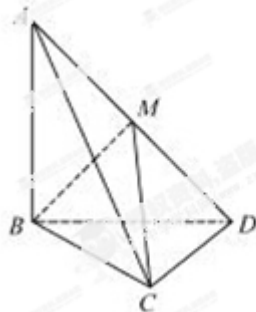
$\therefore S_{\triangle ABM} = \frac{1}{2} S_{\triangle ABD} = \frac{1}{4}$.

由 (1) 知, $CD \perp$ 平面 ABD ,

\therefore 三棱锥 $C-ABM$ 的高 $h = CD = 1$,

因此三棱锥 $A-MBC$ 的体积

$$V_{A-MBC} = V_{C-ABM} = \frac{1}{3} S_{\triangle ABM} \cdot h = \frac{1}{12}.$$



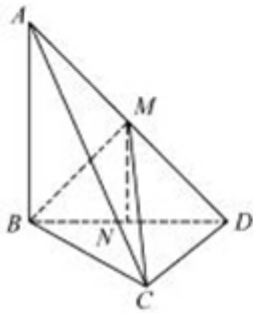
解法二：

(1) 同解法一.

(2) 由 $AB \perp$ 平面 BCD 知, 平面 $ABD \perp$ 平面 BCD ,

又平面 $ABD \cap$ 平面 $BCD=BD$,

如图, 过点 M 作 $MN \perp BD$ 交 BD 于点 N .



则 $MN \perp$ 平面 BCD , 且 $MN = \frac{1}{2}AB = \frac{1}{2}$,

又 $CD \perp BD, BD = CD = 1$,

$$\therefore S_{\triangle BCD} = \frac{1}{2}.$$

\therefore 三棱锥 $A-MBC$ 的体积

$$V_{A-MBC} = V_{A-BCD} - V_{M-BCD} = \frac{1}{3}AB \cdot S_{\triangle BCD} - \frac{1}{3}MN \cdot S_{\triangle BCD} = \frac{1}{12}.$$

考点：垂直关系，几何体的体积，“间接法”、“等积法”.

20. ((本小题满分 12 分))

根据世行 2013 年新标准, 人均 GDP 低于 1035 美元为低收入国家; 人均 GDP 为 1035-4085 元为中等偏下收入国家; 人均 GDP 为 4085-12616 美元为中等偏上收入国家; 人均 GDP 不低于 12616 美元为高收入国家. 某城市有 5 个行政区, 各区人口占该城市人口比例及人均 GDP 如下表:

行政区	区人口占城市人口比例	区人均 GDP(单位:美元)
A	25%	8000
B	30%	4000
C	15%	6000
D	10%	3000
E	20%	10000

(1) 判断该城市人均 GDP 是否达到中等偏上收入国家标准;

(2) 现从该城市 5 个行政区中随机抽取 2 个, 求抽到的 2 个行政区人均 GDP 都达到中等偏上收入国家标准的概率.

【答案】(1) 该城市人均 GDP 达到了中等偏上收入国家标准. (2) $P(M) = \frac{3}{10}$.

【解析】

试题分析: (1) 设该城市人口总数为 a , 通过计算该城市人均 GDP

$$\frac{8000 \times 0.25a + 4000 \times 0.30a + 6000 \times 0.15a + 3000 \times 0.10a + 10000 \times 0.20a}{a} = 6400$$

由 $6400 \in [4085, 12616)$, 作出结论.

(2) “从 5 个行政区中随机抽取 2 个” 的所有的基本事件是:

$\{A, B\}, \{A, C\}, \{A, D\}, \{A, E\}, \{B, C\}, \{B, D\}, \{B, E\}, \{C, D\}, \{C, E\}, \{D, E\}$ 共 10 个,

设事件 “抽到的 2 个行政区人均 GDP 都达到中等偏上收入国家标准” 为 M ,

则事件 M 包含的基本事件是: $\{A, C\}, \{A, E\}, \{C, E\}$, 共 3 个,

由古典概型概率的计算即得. 学科网

试题解析: (1) 设该城市人口总数为 a , 则该城市人均 GDP 为

$$\frac{8000 \times 0.25a + 4000 \times 0.30a + 6000 \times 0.15a + 3000 \times 0.10a + 10000 \times 0.20a}{a} = 6400$$

因为 $6400 \in [4085, 12616)$,

所以该城市人均 GDP 达到了中等偏上收入国家标准

(2) “从 5 个行政区中随机抽取 2 个” 的所有的基本事件是:

$\{A, B\}, \{A, C\}, \{A, D\}, \{A, E\}, \{B, C\}, \{B, D\}, \{B, E\}, \{C, D\}, \{C, E\}, \{D, E\}$ 共 10 个,

设事件 “抽到的 2 个行政区人均 GDP 都达到中等偏上收入国家标准” 为 M ,

则事件 M 包含的基本事件是: $\{A, C\}, \{A, E\}, \{C, E\}$, 共 3 个,

所以所求概率为 $P(M) = \frac{3}{10}$.

考点: 频率分布表, 古典概型.

21. ((本小题满分 12 分))

已知曲线 Γ 上的点到点 $F(0,1)$ 的距离比它到直线 $y = -3$ 的距离小 2.

(1) 求曲线 Γ 的方程;

(2) 曲线 Γ 在点 P 处的切线 l 与 x 轴交于点 A . 直线 $y = 3$ 分别与直线 l 及 y 轴交于点 M, N , 以 MN 为

直径作圆 C ，过点 A 作圆 C 的切线，切点为 B ，试探究：当点 P 在曲线 Γ 上运动（点 P 与原点不重合）时，线段 AB 的长度是否发生变化？证明你的结论。

【答案】 (1) $x^2 = 4y$. (2) 当点 P 在曲线 Γ 上运动时，线段 AB 的长度不变，证明见解析。

【解析】

试题分析：(1) 思路一：设 $S(x, y)$ 为曲线 Γ 上任意一点，

依题意可知曲线 Γ 是以点 $F(0, 1)$ 为焦点，直线 $y = -1$ 为准线的抛物线，

得到曲线 Γ 的方程为 $x^2 = 4y$.

思路二：设 $S(x, y)$ 为曲线 Γ 上任意一点，

由 $|y - (-3)| = \sqrt{(x - 0)^2 + (y - 1)^2} = 2$ ，化简即得。

(2) 当点 P 在曲线 Γ 上运动时，线段 AB 的长度不变，证明如下：

由 (1) 知抛物线 Γ 的方程为 $y = \frac{1}{4}x^2$ ，

设 $P(x_0, y_0)$ ($x_0 \neq 0$)，得 $y_0 = \frac{1}{4}x_0^2$ ，

应用导数的几何意义，确定切线的斜率，进一步得切线 l 的方程为 $y = \frac{1}{2}x_0x - \frac{1}{4}x_0^2$ 。

由 $\begin{cases} y = \frac{1}{2}x_0x - \frac{1}{4}x_0^2 \\ y = 0 \end{cases}$ ，得 $A(\frac{1}{2}x_0, 0)$ 。

由 $\begin{cases} y = \frac{1}{2}x_0x - \frac{1}{4}x_0^2 \\ y = 3 \end{cases}$ ，得 $M(\frac{1}{2}x_0 + \frac{6}{x_0}, 3)$ 。

根据 $N(0, 3)$ ，得圆心 $C(\frac{1}{4}x_0 + \frac{3}{x_0}, 3)$ ，半径 $r = \frac{1}{2}|MN| = |\frac{1}{4}x_0 + \frac{3}{x_0}|$ ，

由弦长，半径及圆心到直线的距离之关系，确定 $|AB| = \sqrt{6}$ 。

试题解析：解法一：(1) 设 $S(x, y)$ 为曲线 Γ 上任意一点，

依题意，点 S 到 $F(0, 1)$ 的距离与它到直线 $y = -1$ 的距离相等，

所以曲线 Γ 是以点 $F(0, 1)$ 为焦点，直线 $y = -1$ 为准线的抛物线，

所以曲线 Γ 的方程为 $x^2 = 4y$ 。

(2) 当点 P 在曲线 Γ 上运动时，线段 AB 的长度不变，证明如下：

由 (1) 知抛物线 Γ 的方程为 $y = \frac{1}{4}x^2$ ，

设 $P(x_0, y_0)$ ($x_0 \neq 0$)，则 $y_0 = \frac{1}{4}x_0^2$ ，

由 $y' = \frac{1}{2}x$ ，得切线 l 的斜率

$$k = y'|_{x=x_0} = \frac{1}{2}x_0,$$

所以切线 l 的方程为 $y - y_0 = \frac{1}{2}x_0(x - x_0)$ ，即 $y = \frac{1}{2}x_0x - \frac{1}{4}x_0^2$ 。

$$\text{由} \begin{cases} y = \frac{1}{2}x_0x - \frac{1}{4}x_0^2 \\ y = 0 \end{cases}, \text{得} A(\frac{1}{2}x_0, 0).$$

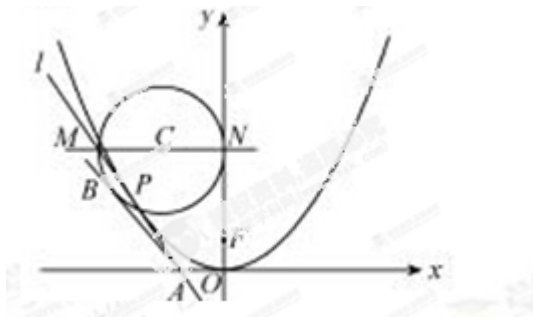
$$\text{由} \begin{cases} y = \frac{1}{2}x_0x - \frac{1}{4}x_0^2 \\ y = 3 \end{cases}, \text{得} M(\frac{1}{2}x_0 + \frac{6}{x_0}, 3).$$

又 $N(0, 3)$ ，所以圆心 $C(\frac{1}{4}x_0 + \frac{3}{x_0}, 3)$ ，

$$\text{半径} r = \frac{1}{2}|MN| = |\frac{1}{4}x_0 + \frac{3}{x_0}|,$$

$$|AB| = \sqrt{|AC|^2 - r^2} = \sqrt{[\frac{1}{2}x_0 - (\frac{1}{4}x_0 + \frac{3}{x_0})]^2 + 3^2 - (\frac{1}{4}x_0 + \frac{3}{x_0})^2} = \sqrt{6}.$$

所以点 P 在曲线 Γ 上运动时，线段 AB 的长度不变。



解法二：

(1) 设 $S(x, y)$ 为曲线 Γ 上任意一点，

$$\text{则 } |y - (-3)| = \sqrt{(x-0)^2 + (y-1)^2} = 2,$$

依题意，点 $S(x, y)$ 只能在直线 $y = -3$ 的上方，所以 $y > -3$ ，

$$\text{所以 } \sqrt{(x-0)^2 + (y-1)^2} = y+1,$$

化简得，曲线 Γ 的方程为 $x^2 = 4y$ 。

(2) 同解法一。

考点：抛物线的定义，导数的几何意义，直线方程，直线与抛物线的位置关系，直线与圆的位置关系。

22. (本小题满分 14 分)

已知函数 $f(x) = e^x - ax$ (a 为常数) 的图像与 y 轴交于点 A ，曲线 $y = f(x)$ 在点 A 处的切线斜率为 -1 。

(1) 求 a 的值及函数 $f(x)$ 的极值；

(2) 证明：当 $x > 0$ 时， $x^2 < e^x$

(3) 证明：对任意给定的正数 e ，总存在 x_0 ，使得当 $x \in (x_0, +\infty)$ 时，恒有 $x < ce^x$

【答案】(1) 当 $x = \ln 2$ 时, $f(x)$ 有极小值 $f(\ln 2) = 2 - \ln 4$, $f(x)$ 无极大值.

(2) 见解析. (3) 见解析.

【解析】

试题分析: (1) 由 $f'(0) = 1 - a = -1$, 得 $a = 2$.

从而 $f'(x) = e^x - 2$.

令 $f'(x) = 0$, 得驻点 $x = \ln 2$. 讨论可知:

当 $x < \ln 2$ 时, $f'(x) < 0$, $f(x)$ 单调递减;

当 $x > \ln 2$ 时, $f'(x) > 0$, $f(x)$ 单调递增.

当 $x = \ln 2$ 时, $f(x)$ 有极小值 $f(\ln 2) = 2 - \ln 4$, $f(x)$ 无极大值.

(2) 令 $g(x) = e^x - x^2$, 则 $g'(x) = e^x - 2x$.

根据 $g'(x) = f'(x) \geq f'(\ln 2) = 2 - \ln 4 > 0$, 知 $g(x)$ 在 \mathbb{R} 上单调递增, 又 $g(0) = 1 > 0$,

当 $x > 0$ 时, 由 $g(x) > g(0) > 0$, 即得.

(3) 思路一: 对任意给定的正数 c , 取 $x_0 = \frac{1}{c}$,

根据 $x^2 < e^x$ 得到当 $x > x_0$ 时, $e^x > x^2 > \frac{1}{c}x$.

思路二: 令 $k = \frac{1}{c} (k > 0)$, 转化得到只需 $x > \ln x + \ln k$ 成立.

分 $0 < k \leq 1$, $k > 1$, 应用导数研究 $h(x) = x - \ln x - \ln k$ 的单调性.

思路三: 就① $c \geq 1$, ② $0 < c < 1$, 加以讨论.

试题解析：解法一：

(1) 由 $f(x) = e^x - ax$ ，得 $f'(x) = e^x - a$ 。

又 $f'(0) = 1 - a = -1$ ，得 $a = 2$ 。

所以 $f(x) = e^x - 2x$ ， $f'(x) = e^x - 2$ 。

令 $f'(x) = 0$ ，得 $x = \ln 2$ 。

当 $x < \ln 2$ 时， $f'(x) < 0$ ， $f(x)$ 单调递减；

当 $x > \ln 2$ 时， $f'(x) > 0$ ， $f(x)$ 单调递增。

所以当 $x = \ln 2$ 时， $f(x)$ 有极小值，

且极小值为 $f(\ln 2) = e^{\ln 2} - 2\ln 2 = 2 - \ln 4$ ，

$f(x)$ 无极大值。

(2) 令 $g(x) = e^x - x^2$ ，则 $g'(x) = e^x - 2x$ 。

由 (1) 得， $g'(x) = f(x) \geq f(\ln 2) = 2 - \ln 4 > 0$ ，即 $g'(x) > 0$ 。

所以 $g(x)$ 在 \mathbb{R} 上单调递增，又 $g(0) = 1 > 0$ ，

所以当 $x > 0$ 时， $g(x) > g(0) > 0$ ，即 $x^2 < e^x$ 。

(3) 对任意给定的正数 c ，取 $x_0 = \frac{1}{c}$ ，

由 (2) 知，当 $x > 0$ 时， $x^2 < e^x$ 。

所以当 $x > x_0$ 时， $e^x > x^2 > \frac{1}{c}x$ ，即 $x < ce^x$ 。

因此，对任意给定的正数 c ，总存在 x_0 ，当 $x \in (x_0, +\infty)$ 时，恒有 $x < ce^x$ 。

解法二：(1) 同解法一。

(2) 同解法一.

(3) 令 $k = \frac{1}{c} (k > 0)$, 要使不等式 $x < ce^x$ 成立, 只要 $e^x > kx$ 成立.

而要使 $e^x > kx$ 成立, 则只需 $x > \ln(kx)$, 即 $x > \ln x + \ln k$ 成立.

①若 $0 < k \leq 1$, 则 $\ln k \leq 0$, 易知当 $x > 0$ 时, $x > \ln x \geq \ln x + \ln k$ 成立.

即对任意 $c \in [1, +\infty)$, 取 $x_0 = 0$, 当 $x \in (x_0, +\infty)$ 时, 恒有 $x < ce^x$.

②若 $k > 1$, 令 $h(x) = x - \ln x - \ln k$, 则 $h'(x) = 1 - \frac{1}{x} = \frac{x-1}{x}$,

所以当 $x > 1$ 时, $h'(x) > 0$, $h(x)$ 在 $(1, +\infty)$ 内单调递增.

取 $x_0 = 4k$,

$$h(x_0) = 4k - \ln(4k) - \ln k = 2(k - \ln k) + 2(k - \ln 2),$$

易知 $k > \ln k$, $k > \ln 2$, 所以 $h(x_0) > 0$.

因此对任意 $c \in (0, 1)$, 取 $x_0 = \frac{4}{c}$, 当 $x \in (x_0, +\infty)$ 时, 恒有 $x < ce^x$.

综上, 对任意给定的正数 c , 总存在 x_0 , 当 $x \in (x_0, +\infty)$ 时, 恒有 $x < ce^x$.

解法三: (1) 同解法一.

(2) 同解法一.

(3) ①若 $c \geq 1$, 取 $x_0 = 0$,

由(2)的证明过程知, $e^x > 2x$,

所以当 $x \in (x_0, +\infty)$ 时, 有 $ce^x \geq e^x > 2x > x$, 即 $x < ce^x$.

②若 $0 < c < 1$,

令 $h(x) = ce^x - x$, 则 $h'(x) = ce^x - 1$,

令 $h'(x) = 0$ 得 $x = \ln \frac{1}{c}$.

当 $x > \ln \frac{1}{c}$ 时, $h'(x) > 0$, $h(x)$ 单调递增.

取 $x_0 = 2 \ln \frac{2}{c}$,

$h(x_0) = ce^{2 \ln \frac{2}{c}} - 2 \ln \frac{2}{c} = 2 \left(\frac{2}{c} - \ln \frac{2}{c} \right)$,

易知 $\frac{2}{c} - \ln \frac{2}{c} > 0$, 又 $h(x)$ 在 $(x_0, +\infty)$ 内单调递增,

所以当 $x \in (x_0, +\infty)$ 时, 恒有 $h(x) > h(x_0) > 0$, 即 $x < ce^x$.

综上, 对任意给定的正数 c , 总存在 x_0 , 当 $x \in (x_0, +\infty)$ 时, 恒有 $x < ce^x$.

考点: 导数的计算及导数的应用, 全称量词与存在量词, 转化与化归思想, 分类讨论思想.