

2017年全国统一高考数学试卷（理科）（新课标Ⅱ）

一、选择题：本题共12小题，每小题5分，共60分。在每小题给出的四个选项中，只有一项是符合题目要求的。

1. (5分) $\frac{3+i}{1+i} = (\quad)$

- A. $1+2i$ B. $1-2i$ C. $2+i$ D. $2-i$

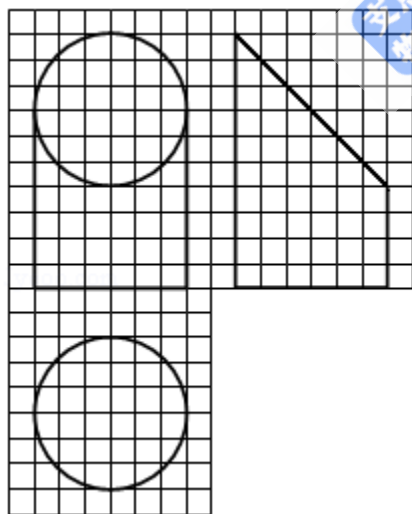
2. (5分) 设集合 $A = \{1, 2, 4\}$, $B = \{x | x^2 - 4x + m = 0\}$. 若 $A \cap B = \{1\}$, 则 $B = (\quad)$

- A. $\{1, -3\}$ B. $\{1, 0\}$ C. $\{1, 3\}$ D. $\{1, 5\}$

3. (5分) 我国古代数学名著《算法统宗》中有如下问题：“远看巍巍塔七层，红光点点倍加增，共灯三百八十一，请问尖头几盏灯？”意思是：一座7层塔共挂了381盏灯，且相邻两层中的下一层灯数是上一层灯数的2倍，则塔的顶层共有灯 (\quad)

- A. 1盏 B. 3盏 C. 5盏 D. 9盏

4. (5分) 如图，网格纸上小正方形的边长为1，粗实线画出的是某几何体的三视图，该几何体由一平面将一圆柱截去一部分后所得，则该几何体的体积为 (\quad)



- A. 90π B. 63π C. 42π D. 36π

5. (5分) 设 x, y 满足约束条件 $\begin{cases} 2x+3y-3 \leq 0 \\ 2x-3y+3 \geq 0 \\ y+3 \geq 0 \end{cases}$, 则 $z=2x+y$ 的最小值是 (\quad)

- A. - 15 B. - 9 C. 1 D. 9

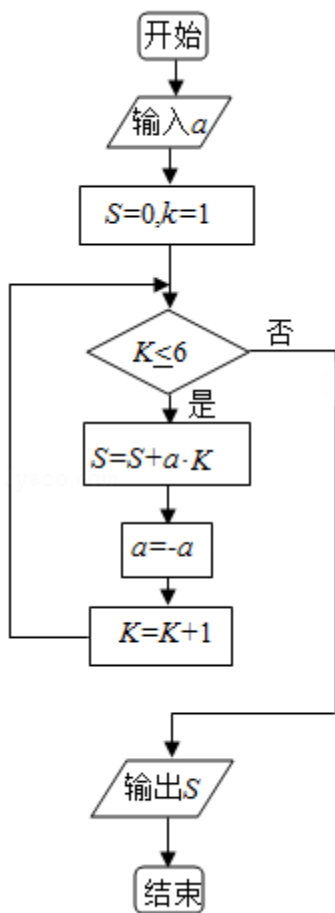
6. (5分) 安排3名志愿者完成4项工作，每人至少完成1项，每项工作由1人完成，则不同的安排方式共有 ()

- A. 12种 B. 18种 C. 24种 D. 36种

7. (5分) 甲、乙、丙、丁四位同学一起去问老师询问成语竞赛的成绩。老师说：你们四人中有2位优秀，2位良好，我现在给甲看乙、丙的成绩，给乙看丙的成绩，给丁看甲的成绩。看后甲对大家说：我还是不知道我的成绩。根据以上信息，则 ()

- A. 乙可以知道四人的成绩 B. 丁可以知道四人的成绩
C. 乙、丁可以知道对方的成绩 D. 乙、丁可以知道自己的成绩

8. (5分) 执行如图的程序框图，如果输入的 $a = -1$ ，则输出的 $S =$ ()



- A. 2 B. 3 C. 4 D. 5

9. (5分) 若双曲线 $C: \frac{x^2}{a^2} - \frac{y^2}{b^2} = 1$ ($a > 0, b > 0$) 的一条渐近线被圆 $(x - 2)$

$x^2+y^2=4$ 所截得的弦长为2, 则C的离心率为 ()

- A. 2 B. $\sqrt{3}$ C. $\sqrt{2}$ D. $\frac{2\sqrt{3}}{3}$

10. (5分) 已知直三棱柱ABC - A₁B₁C₁中, $\angle ABC=120^\circ$, AB=2, BC=CC₁=1, 则异面直线AB₁与BC₁所成角的余弦值为 ()

- A. $\frac{\sqrt{3}}{2}$ B. $\frac{\sqrt{15}}{5}$ C. $\frac{\sqrt{10}}{5}$ D. $\frac{\sqrt{3}}{3}$

11. (5分) 若x= - 2是函数f (x) = (x²+ax - 1) e^{x-1}的极值点, 则f (x) 的极小值为 ()

- A. - 1 B. - 2e⁻³ C. 5e⁻³ D. 1

12. (5分) 已知△ABC是边长为2的等边三角形, P为平面ABC内一点, 则 $\vec{PA} \cdot (\vec{PB} + \vec{PC})$ 的最小值是 ()

- A. - 2 B. - $\frac{3}{2}$ C. - $\frac{4}{3}$ D. - 1

二、填空题: 本题共4小题, 每小题5分, 共20分。

13. (5分) 一批产品的二等品率为0.02, 从这批产品中每次随机取一件, 有放回地抽取100次. X表示抽到的二等品件数, 则DX=_____.

14. (5分) 函数f (x) = sin²x + $\sqrt{3}$ cosx - $\frac{3}{4}$ (x ∈ [0, $\frac{\pi}{2}$]) 的最大值是_____.

15. (5分) 等差数列{a_n}的前n项和为S_n, a₃=3, S₄=10, 则 $\sum_{k=1}^n \frac{1}{S_k}$ =_____.

16. (5分) 已知F是抛物线C: y²=8x的焦点, M是C上一点, FM的延长线交y轴于点N. 若M为FN的中点, 则|FN|=_____.

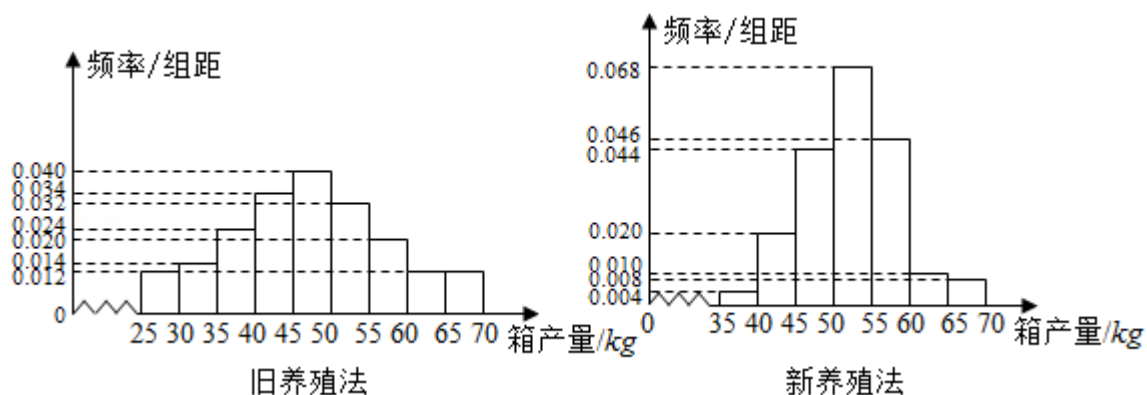
三、解答题: 共70分. 解答应写出文字说明、证明过程或演算步骤. 第17~21题为必考题, 每个试题考生都必须作答. 第22、23题为选考题, 考生根据要求作答. (一) 必考题: 共60分.

17. (12分) △ABC的内角A, B, C的对边分别为a, b, c, 已知sin (A+C) = 8sin² $\frac{B}{2}$.

(1) 求cosB;

(2) 若a+c=6, △ABC的面积为2, 求b.

18. (12分) 海水养殖场进行某水产品的新、旧网箱养殖方法的产量对比, 收获时各随机抽取了100个网箱, 测量各箱水产品的产量(单位: kg), 其频率分布直方图如图:



- 设两种养殖方法的箱产量相互独立, 记A表示事件“旧养殖法的箱产量低于50kg, 新养殖法的箱产量不低于50kg”, 估计A的概率;
- 填写下面列联表, 并根据列联表判断是否有99%的把握认为箱产量与养殖方法有关:

	箱产量 < 50kg	箱产量 ≥ 50kg
旧养殖法		
新养殖法		

- 根据箱产量的频率分布直方图, 求新养殖法箱产量的中位数的估计值 (精确到0.01) .

附:

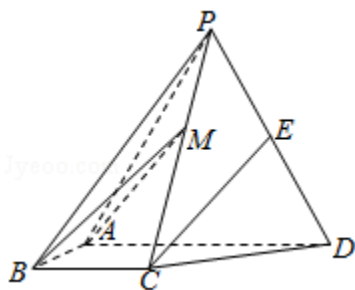
$P(K^2 \geq k)$	0.050	0.010	0.001
k	3.841	6.635	10.828

$$K^2 = \frac{n(ad-bc)^2}{(a+b)(c+d)(a+c)(b+d)}$$

19. (12分) 如图, 四棱锥P - ABCD中, 侧面PAD为等边三角形且垂直于底面ABCD, $AB=BC=\frac{1}{2}AD$, $\angle BAD=\angle ABC=90^\circ$, E是PD的中点.

(1) 证明: 直线CE∥平面PAB;

(2) 点M在棱PC上, 且直线BM与底面ABCD所成角为 45° , 求二面角M - AB - D的余弦值.



20. (12分) 设O为坐标原点, 动点M在椭圆C: $\frac{x^2}{2}+y^2=1$ 上, 过M作x轴的垂线, 垂足为N, 点P满足 $\overrightarrow{NP}=\sqrt{2}\overrightarrow{NM}$.

(1) 求点P的轨迹方程;

(2) 设点Q在直线 $x=-3$ 上, 且 $\overrightarrow{OP}\cdot\overrightarrow{PQ}=1$. 证明: 过点P且垂直于OQ的直线l过C的左焦点F.

21. (12分) 已知函数 $f(x) = ax^2 - ax - x \ln x$, 且 $f(x) \geq 0$.

(1) 求 a ;

(2) 证明: $f(x)$ 存在唯一的极大值点 x_0 , 且 $e^{-2} < f(x_0) < 2^{-2}$.

(二) 选考题: 共10分。请考生在第22、23题中任选一题作答。如果多做, 则按所做的第一题计分。[选修4-4: 坐标系与参数方程] (10分)

22. (10分) 在直角坐标系 xOy 中, 以坐标原点为极点, x 轴的正半轴为极轴建立极坐标系, 曲线 C_1 的极坐标方程为 $\rho \cos \theta = 4$.

(1) M 为曲线 C_1 上的动点, 点 P 在线段 OM 上, 且满足 $|OM| \cdot |OP| = 16$, 求点 P 的轨迹 C_2 的直角坐标方程;

(2) 设点 A 的极坐标为 $(2, \frac{\pi}{3})$, 点 B 在曲线 C_2 上, 求 $\triangle OAB$ 面积的最大值.

[选修4-5: 不等式选讲] (10分)

23. 已知 $a > 0$, $b > 0$, $a^3 + b^3 = 2$. 证明:

(1) $(a+b)(a^5 + b^5) \geq 4$;

(2) $a+b \leq 2$.

