

2016年天津市高考数学试卷（理科）

一、选择题

1. (5分) (2016•天津) 已知集合 $A=\{1, 2, 3, 4\}$, $B=\{y|y=3x-2, x \in A\}$, 则 $A \cap B=$ ()

- A. $\{1\}$ B. $\{4\}$ C. $\{1, 3\}$ D. $\{1, 4\}$

2. (5分) (2016•天津) 设变量 x, y 满足约束条件
$$\begin{cases} x - y + 2 \geq 0 \\ 2x + 3y - 6 \geq 0 \\ 3x + 2y - 9 \leq 0 \end{cases}$$
 则目标函数 $z=2x+5y$

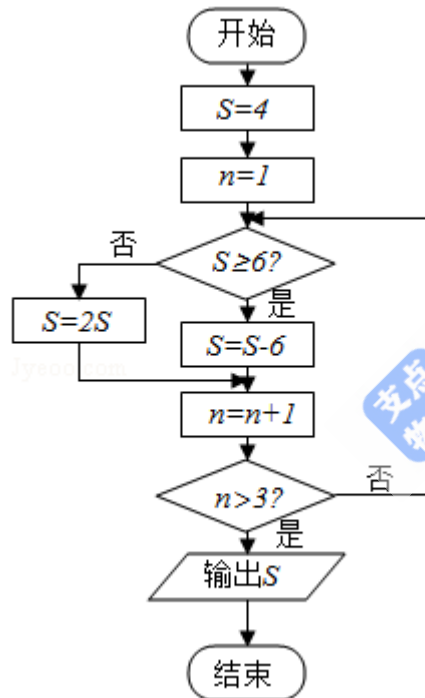
的最小值为 ()

- A. -4 B. 6 C. 10 D. 17

3. (5分) (2016•天津) 在 $\triangle ABC$ 中, 若 $AB=\sqrt{13}$, $BC=3$, $\angle C=120^\circ$, 则 $AC=$ ()

- A. 1 B. 2 C. 3 D. 4

4. (5分) (2016•天津) 阅读如图的程序图, 运行相应的程序, 则输出 S 的值为 ()



- A. 2 B. 4 C. 6 D. 8

5. (5分) (2016•天津) 设 $\{a_n\}$ 是首项为正数的等比数列, 公比为 q , 则“ $q < 0$ ”是“对任意的正整数 n , $a_{2n-1} + a_{2n} < 0$ ”的 ()

- A. 充要条件 B. 充分而不必要条件
C. 必要而不充分条件 D. 既不充分也不必要条件

6. (5分) (2016•天津) 已知双曲线 $\frac{x^2}{4} - \frac{y^2}{b^2} = 1$ ($b > 0$), 以原点为圆心, 双曲线的实

半轴长为半径长的圆与双曲线的两条渐近线相交于 A, B, C, D 四点, 四边形 $ABCD$ 的面积为 $2b$, 则双曲线的方程为 ()

A. $\frac{x^2}{4} - \frac{3y^2}{4} = 1$ B. $\frac{x^2}{4} - \frac{4y^2}{3} = 1$ C. $\frac{x^2}{4} - \frac{y^2}{4} = 1$ D. $\frac{x^2}{4} - \frac{y^2}{12} = 1$

7. (5分) (2016•天津) 已知 $\triangle ABC$ 是边长为1的等边三角形, 点D、E分别是边AB、BC的中点, 连接DE并延长到点F, 使得 $DE=2EF$, 则 $\vec{AF} \cdot \vec{BC}$ 的值为 ()

A. $-\frac{5}{8}$ B. $\frac{1}{8}$ C. $\frac{1}{4}$ D. $\frac{11}{8}$

8. (5分) (2016•天津) 已知函数 $f(x) = \begin{cases} x^2 + (4a - 3)x + 3a, & x < 0 \\ \log_a(x+1) + 1, & x \geq 0 \end{cases}$ ($a > 0$, 且 $a \neq 1$)

在 \mathbb{R} 上单调递减, 且关于 x 的方程 $|f(x)| = 2 - x$ 恰好有两个不相等的实数解, 则 a 的取值范围是 ()

A. $(0, \frac{2}{3}]$ B. $[\frac{2}{3}, \frac{3}{4}]$ C. $[\frac{1}{3}, \frac{2}{3}] \cup \{\frac{3}{4}\}$ D. $[\frac{1}{3}, \frac{2}{3}) \cup \{\frac{3}{4}\}$

二、填空题

9. (5分) (2016•天津) 已知 $a, b \in \mathbb{R}$, i 是虚数单位, 若 $(1+i)(1-bi) = a$, 则 $\frac{a}{b}$ 的值为

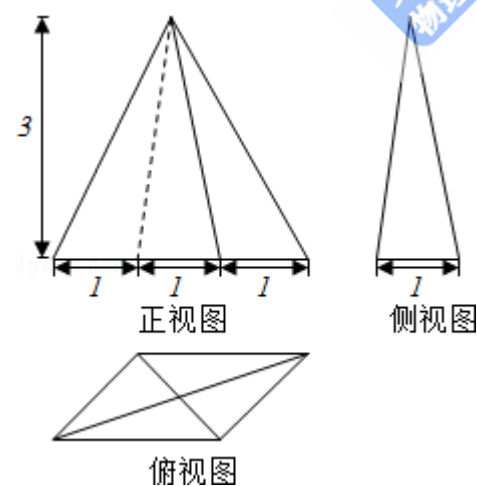
.

10. (5分) (2016•天津) $(x^2 - \frac{1}{x})^8$ 的展开式中 x^7 的系数为 _____

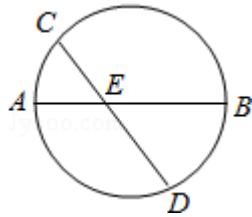
(用数字作答)

11. (5分) (2016•天津) 已知一个四棱锥的底面是平行四边形, 该四棱锥的三视图如图所示(单位: m), 则该四棱锥的体积为

_____ m^3



12. (5分) (2016•天津) 如图, AB是圆的直径, 弦CD与AB相交于点E, $BE=2AE=2$, B
 $D=ED$, 则线段CE的长为 _____.



13. (5分) (2016•天津) 已知 $f(x)$ 是定义在 \mathbb{R} 上的偶函数, 且在区间 $(-\infty, 0)$ 上单调递增, 若实数 a 满足 $f(2^{|a-1|}) > f(-\sqrt{2})$, 则 a 的取值范围是_____.

14. (5分) (2016•天津) 设抛物线 $\begin{cases} x=2pt^2 \\ y=2pt \end{cases}$ (t 为参数, $p>0$) 的焦点为 F , 准线为 l ,

过抛物线上一点 A 作 l 的垂线, 垂足为 B , 设 $C(\frac{7}{2}p, 0)$, AF 与 BC 相交于点 E . 若 $|CF|=2|AF|$, 且 $\triangle ACE$ 的面积为 $3\sqrt{2}$, 则 p 的值为_____.

三、计算题

15. (13分) (2016•天津) 已知函数 $f(x) = 4\tan x \sin(\frac{\pi}{2} - x) \cos(x - \frac{\pi}{3}) - \sqrt{3}$.

(1) 求 $f(x)$ 的定义域与最小正周期;

(2) 讨论 $f(x)$ 在区间 $[-\frac{\pi}{4}, \frac{\pi}{4}]$ 上的单调性.

16. (13分) (2016•天津) 某小组共10人, 利用假期参加义工活动, 已知参加义工活动次数为1, 2, 3的人数分别为3, 3, 4, 现从这10人中随机选出2人作为该组代表参加座谈会.

(1) 设 A 为事件“选出的2人参加义工活动次数之和为4”, 求事件 A 发生的概率;

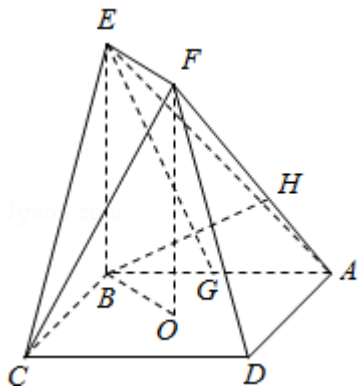
(2) 设 X 为选出的2人参加义工活动次数之差的绝对值, 求随机变量 X 的分布列和数学期望.

17. (13分) (2016•天津) 如图, 正方形 $ABCD$ 的中心为 O , 四边形 $OBEF$ 为矩形, 平面 $OBEF \perp$ 平面 $ABCD$, 点 G 为 AB 的中点, $AB=BE=2$.

(1) 求证: $EG \parallel$ 平面 ADF ;

(2) 求二面角 $O-EF-C$ 的正弦值;

(3) 设 H 为线段 AF 上的点, 且 $AH = \frac{2}{3}HF$, 求直线 BH 和平面 CEF 所成角的正弦值.



18. (13分) (2016•天津) 已知 $\{a_n\}$ 是各项均为正数的等差数列, 公差为 d , 对任意的 $n \in \mathbb{N}^+$, b_n 是 a_n 和 a_{n+1} 的等比中项.

(1) 设 $c_n = b_{n+1}^2 - b_n^2$, $n \in \mathbb{N}^+$, 求证: 数列 $\{c_n\}$ 是等差数列;

(2) 设 $a_1 = d$, $T_n = \sum_{k=1}^{2n} (-1)^k b_k^2$, $n \in \mathbb{N}^*$, 求证: $\sum_{i=1}^n \frac{1}{T_k} < \frac{1}{2d^2}$.

19. (14分) (2016•天津) 设椭圆 $\frac{x^2}{a^2} + \frac{y^2}{3} = 1$ ($a > \sqrt{3}$) 的右焦点为 F , 右顶点为 A . 已知

$$\frac{1}{|OF|} + \frac{1}{|OA|} = \frac{3e}{|FA|},$$
 其中 O 为原点, e 为椭圆的离心率.

(1) 求椭圆的方程;

(2) 设过点 A 的直线 l 与椭圆交于点 B (B 不在 x 轴上), 垂直于 l 的直线与 l 交于点 M , 与 y 轴于点 H , 若 $BF \perp HF$, 且 $\angle MOA \leq \angle MAO$, 求直线 l 的斜率的取值范围.

20. (14分) (2016•天津) 设函数 $f(x) = (x-1)^3 - ax - b$, $x \in \mathbb{R}$, 其中 $a, b \in \mathbb{R}$.

(1) 求 $f(x)$ 的单调区间;

(2) 若 $f(x)$ 存在极值点 x_0 , 且 $f(x_1) = f(x_0)$, 其中 $x_1 \neq x_0$, 求证: $x_1 + 2x_0 = 3$;

(3) 设 $a > 0$, 函数 $g(x) = |f(x)|$, 求证: $g(x)$ 在区间 $[0, 2]$ 上的最大值不小于 $\frac{1}{4}$.

2016年天津市高考数学试卷（理科）

参考答案与试题解析

一、选择题

1. (5分) (2016•天津) 已知集合 $A=\{1, 2, 3, 4\}$, $B=\{y|y=3x-2, x\in A\}$, 则 $A\cap B=($

)
A. $\{1\}$ B. $\{4\}$ C. $\{1, 3\}$ D. $\{1, 4\}$

【分析】把A中元素代入 $y=3x-2$ 中计算求出y的值, 确定出B, 找出A与B的交集即可.

【解答】解: 把 $x=1, 2, 3, 4$ 分别代入 $y=3x-2$ 得: $y=1, 4, 7, 10$, 即 $B=\{1, 4, 7, 10\}$

,

$\therefore A=\{1, 2, 3, 4\}$,

$\therefore A\cap B=\{1, 4\}$,

故选: D.

【点评】此题考查了交集及其运算, 熟练掌握交集的定义是解本题的关键.

2. (5分) (2016•天津) 设变量x, y满足约束条件
$$\begin{cases} x-y+2\geq 0 \\ 2x+3y-6\geq 0 \\ 3x+2y-9\leq 0 \end{cases}$$
, 则目标函数 $z=2x+5y$

的最小值为 ()

A. -4 B. 6 C. 10 D. 17

【分析】作出不等式组表示的平面区域, 作出直线 $l_0: 2x+5y=0$, 平移直线 l_0 , 可得经过点 $(3, 0)$ 时, $z=2x+5y$ 取得最小值6.

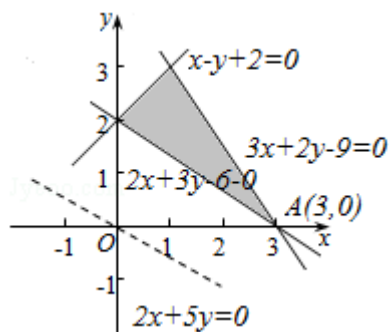
【解答】解: 作出不等式组
$$\begin{cases} x-y+2\geq 0 \\ 2x+3y-6\geq 0 \\ 3x+2y-9\leq 0 \end{cases}$$
表示的可行域,

如右图中三角形的区域,

作出直线 $l_0: 2x+5y=0$, 图中的虚线,

平移直线 l_0 , 可得经过点 $(3, 0)$ 时, $z=2x+5y$ 取得最小值6.

故选: B.



【点评】本题考查简单线性规划的应用, 涉及二元一次不等式组表示的平面区域, 关键是准确作出不等式组表示的平面区域.

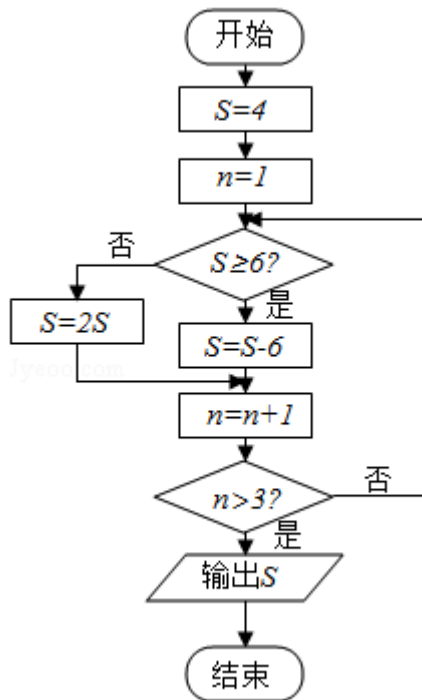
3. (5分) (2016•天津) 在 $\triangle ABC$ 中, 若 $AB=\sqrt{13}$, $BC=3$, $\angle C=120^\circ$, 则 $AC=(\quad)$
 A. 1 B. 2 C. 3 D. 4

【分析】直接利用余弦定理求解即可.

【解答】解: 在 $\triangle ABC$ 中, 若 $AB=\sqrt{13}$, $BC=3$, $\angle C=120^\circ$,
 $AB^2=BC^2+AC^2-2AC\cdot BC\cos C$,
 可得: $13=9+AC^2+3AC$,
 解得 $AC=1$ 或 $AC=-4$ (舍去).
 故选: A.

【点评】本题考查三角形的解法, 余弦定理的应用, 考查计算能力.

4. (5分) (2016•天津) 阅读如图的程序图, 运行相应的程序, 则输出 S 的值为 (\quad)



- A. 2 B. 4 C. 6 D. 8

【分析】根据程序进行顺次模拟计算即可.

【解答】解: 第一次判断后: 不满足条件, $S=2\times 4=8$, $n=2$, $i>4$,
 第二次判断不满足条件 $n>3$:
 第三次判断满足条件: $S>6$, 此时计算 $S=8-6=2$, $n=3$,
 第四次判断 $n>3$ 不满足条件,
 第五次判断 $S>6$ 不满足条件, $S=4$. $n=4$,
 第六次判断满足条件 $n>3$,
 故输出 $S=4$,
 故选: B.

【点评】本题主要考查程序框图的识别和运行, 根据条件进行模拟计算是解决本题的关键.

5. (5分) (2016•天津) 设 $\{a_n\}$ 是首项为正数的等比数列, 公比为 q , 则“ $q<0$ ”是“对任意的正整数 n , $a_{2n-1}+a_{2n}<0$ ”的 (\quad)
 A. 充要条件 B. 充分而不必要条件

C. 必要而不充分条件 D. 既不充分也不必要条件

【分析】利用必要、充分及充要条件的定义判断即可.

【解答】解: $\{a_n\}$ 是首项为正数的等比数列, 公比为 q ,
若“ $q < 0$ ”是“对任意的正整数 n , $a_{2n-1} + a_{2n} < 0$ ”不一定成立,

例如: 当首项为 2, $q = -\frac{1}{2}$ 时, 各项为 2, $-1, \frac{1}{2}, -\frac{1}{4}, \dots$, 此时 $2 + (-1) = 1 > 0, \frac{1}{2} + (-\frac{1}{4}) = \frac{1}{4} > 0$;

而“对任意的正整数 n , $a_{2n-1} + a_{2n} < 0$ ”, 前提是“ $q < 0$ ”,

则“ $q < 0$ ”是“对任意的正整数 n , $a_{2n-1} + a_{2n} < 0$ ”的必要而不充分条件,

故选: C.

【点评】此题考查了必要条件、充分条件与充要条件的判断, 熟练掌握各自的定义是解本题的关键.

6. (5分) (2016•天津) 已知双曲线 $\frac{x^2}{4} - \frac{y^2}{b^2} = 1$ ($b > 0$), 以原点为圆心, 双曲线的实

半轴长为半径长的圆与双曲线的两条渐近线相交于 A, B, C, D 四点, 四边形 ABCD 的面积为 $2b$, 则双曲线的方程为 ()

A. $\frac{x^2}{4} - \frac{3y^2}{4} = 1$ B. $\frac{x^2}{4} - \frac{4y^2}{3} = 1$ C. $\frac{x^2}{4} - \frac{y^2}{4} = 1$ D. $\frac{x^2}{4} - \frac{y^2}{12} = 1$

【分析】以原点为圆心, 双曲线的实半轴长为半径长的圆的方程为 $x^2 + y^2 = 4$, 双曲线的两条渐近线方程为 $y = \pm \frac{b}{2}x$, 利用四边形 ABCD 的面积为 $2b$, 求出 A 的坐标, 代入圆的方程, 即可得出结论.

【解答】解: 以原点为圆心, 双曲线的实半轴长为半径长的圆的方程为 $x^2 + y^2 = 4$, 双曲线的两条渐近线方程为 $y = \pm \frac{b}{2}x$,

设 A $(x, \frac{b}{2}x)$, 则 \because 四边形 ABCD 的面积为 $2b$,

$$\therefore 2x \cdot bx = 2b,$$

$$\therefore x = \pm 1$$

将 A $(1, \frac{b}{2})$ 代入 $x^2 + y^2 = 4$, 可得 $1 + \frac{b^2}{4} = 4$, $\therefore b^2 = 12$,

$$\therefore \text{双曲线的方程为 } \frac{x^2}{4} - \frac{y^2}{12} = 1,$$

故选: D.

【点评】本题考查双曲线的方程与性质, 考查学生分析解决问题的能力, 属于中档题.

7. (5分) (2016•天津) 已知 $\triangle ABC$ 是边长为 1 的等边三角形, 点 D、E 分别是边 AB、BC 的中点, 连接 DE 并延长到点 F, 使得 $DE = 2EF$, 则 $\overrightarrow{AF} \cdot \overrightarrow{BC}$ 的值为 ()

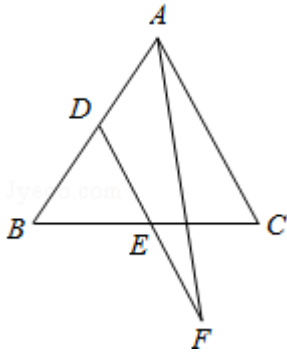
- A. $-\frac{5}{8}$ B. $\frac{1}{8}$ C. $\frac{1}{4}$ D. $\frac{11}{8}$

【分析】运用向量的加法运算和中点的向量表示，结合向量的数量积的定义和性质，向量的平方即为模的平方，计算即可得到所求值。

【解答】解：由D、E分别是边AB、BC的中点， $DE=2EF$ ，可得

$$\begin{aligned}\overrightarrow{AF} \cdot \overrightarrow{BC} &= (\overrightarrow{AD} + \overrightarrow{DF}) \cdot (\overrightarrow{AC} - \overrightarrow{AB}) \\ &= \left(\frac{1}{2}\overrightarrow{AB} + \frac{3}{2}\overrightarrow{DE}\right) \cdot (\overrightarrow{AC} - \overrightarrow{AB}) \\ &= \left(\frac{1}{2}\overrightarrow{AB} + \frac{3}{4}\overrightarrow{AC}\right) \cdot (\overrightarrow{AC} - \overrightarrow{AB}) \\ &= \frac{3}{4}\overrightarrow{AC}^2 - \frac{1}{4}\overrightarrow{AB} \cdot \overrightarrow{AC} - \frac{1}{2}\overrightarrow{AB}^2 = \frac{3}{4} - \frac{1}{4} \cdot 1 \cdot 1 \cdot \frac{1}{2} - \frac{1}{2} \\ &= \frac{1}{8}.\end{aligned}$$

故选：B.



【点评】本题考查了数量积的定义和性质，注意运用向量的中点的表示，考查计算能力，属于中档题。

8. (5分) (2016•天津) 已知函数 $f(x) = \begin{cases} x^2 + (4a - 3)x + 3a, & x < 0 \\ \log_a(x+1) + 1, & x \geq 0 \end{cases}$ ($a > 0$, 且 $a \neq 1$)

在R上单调递减，且关于x的方程 $|f(x)| = 2 - x$ 恰好有两个不相等的实数解，则a的取值范围是 ()

- A. $(0, \frac{2}{3}]$ B. $[\frac{2}{3}, \frac{3}{4}]$ C. $[\frac{1}{3}, \frac{2}{3}] \cup \{\frac{3}{4}\}$ D. $[\frac{1}{3}, \frac{2}{3}) \cup \{\frac{3}{4}\}$

【分析】利用函数是减函数，根据对数的图象和性质判断出a的大致范围，再根据f(x)为减函数，得到不等式组，利用函数的图象，方程的解的个数，推出a的范围。

【解答】解：y = $\log_a(x+1) + 1$ 在 $[0, +\infty)$ 递减，则 $0 < a < 1$,

函数f(x)在R上单调递减，则则：

$$\begin{cases} \frac{3-4a}{2} \geq 0 \\ 0 < a < 1 \\ 0^2 + (4a-3) \cdot 0 + 3a \geq \log_a(0+1) + 1 \end{cases};$$

解得, $\frac{1}{3} \leq a \leq \frac{3}{4}$;

由图象可知, 在 $[0, +\infty)$ 上, $|f(x)| = 2 - x$ 有且仅有一个解,
故在 $(-\infty, 0)$ 上, $|f(x)| = 2 - x$ 同样有且仅有一个解,

当 $3a > 2$ 即 $a > \frac{2}{3}$ 时, 联立 $|x^2 + (4a - 3) + 3a| = 2 - x$,

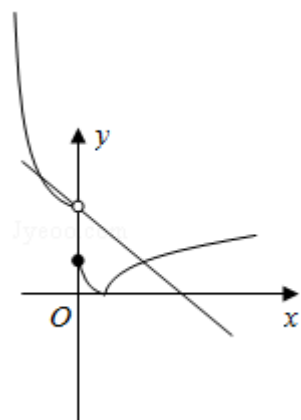
则 $\Delta = (4a - 2)^2 - 4(3a - 2) = 0$,

解得 $a = \frac{3}{4}$ 或 1 (舍去),

当 $1 \leq 3a \leq 2$ 时, 由图象可知, 符合条件,

综上: a 的取值范围为 $[\frac{1}{3}, \frac{2}{3}] \cup \{\frac{3}{4}\}$,

故选: C.



【点评】 本题考查了方程的解个数问题, 以及参数的取值范围, 考查了学生的分析问题, 解决问题的能力, 以及数形结合的思想, 属于中档题.

二、填空题

9. (5分) (2016•天津) 已知 $a, b \in \mathbb{R}$, i 是虚数单位, 若 $(1+i)(1-bi) = a$, 则 $\frac{a}{b}$ 的值为 2.

【分析】 根据复数相等的充要条件, 构造关于 a, b 的方程, 解得 a, b 的值, 进而可得答案.

【解答】 解: $\because (1+i)(1-bi) = 1+b + (1-b)i = a, a, b \in \mathbb{R}$,

$$\therefore \begin{cases} 1+b=a \\ 1-b=0 \end{cases}$$

$$\text{解得: } \begin{cases} a=2 \\ b=1 \end{cases}$$

$$\therefore \frac{a}{b} = 2,$$

故答案为: 2

【点评】 本题考查的知识点是复数的乘法运算, 复数相等的充要条件, 难度不大, 属于基础题.

10. (5分) (2016•天津) $(x^2 - \frac{1}{x})^8$ 的展开式中 x^7 的系数为 -56 (用数字作答)

【分析】利用通项公式即可得出.

【解答】解: $T_{r+1} = C_8^r (x^2)^{8-r} (-\frac{1}{x})^r = (-1)^r C_8^r x^{16-3r}$,

令 $16 - 3r = 7$, 解得 $r = 3$.

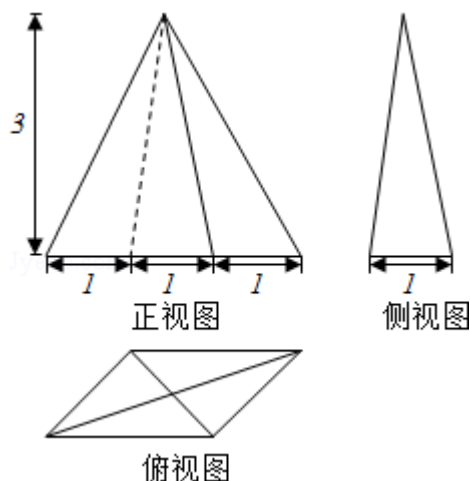
$\therefore (x^2 - \frac{1}{x})^8$ 的展开式中 x^7 的系数为 $(-1)^3 C_8^3 = -56$.

故答案为: -56.

【点评】本题考查了二项式定理的应用, 考查了推理能力与计算能力, 属于基础题.

11. (5分) (2016•天津) 已知一个四棱锥的底面是平行四边形, 该四棱锥的三视图如图所示 (单位: m), 则该四棱锥的体积为

2 m^3



【分析】由已知中的三视图可得: 该几何体是一个以俯视图为底面的四棱锥, 进而可得答案.

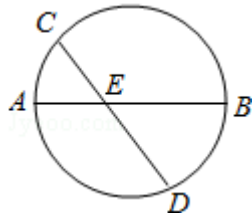
【解答】解: 由已知中的三视图可得: 该几何体是一个以俯视图为底面的四棱锥, 棱锥的底面是底为2, 高为1的平行四边形, 故底面面积 $S = 2 \times 1 = 2m^2$, 棱锥的高 $h = 3m$,

故体积 $V = \frac{1}{3} Sh = 2m^3$,

故答案为: 2

【点评】本题考查的知识点是由三视图, 求体积和表面积, 根据已知的三视图, 判断几何体的形状是解答的关键.

12. (5分) (2016•天津) 如图, AB 是圆的直径, 弦 CD 与 AB 相交于点 E, $BE = 2AE = 2$, $BD = ED$, 则线段 CE 的长为 $\frac{2\sqrt{3}}{3}$.



【分析】由 $BD=ED$ ，可得 $\triangle BDE$ 为等腰三角形，过 D 作 $DH \perp AB$ 于 H ，由相交弦定理求得 DH ，在 $Rt\triangle DHE$ 中求出 DE ，再由相交弦定理求得 CE 。

【解答】解：如图，
过 D 作 $DH \perp AB$ 于 H ，

$$\because BE=2AE=2, BD=ED,$$

$$\therefore BH=HE=1, \text{ 则 } AH=2, BH=1,$$

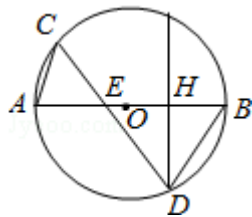
$$\therefore DH^2=AH \cdot BH=2, \text{ 则 } DH=\sqrt{2},$$

$$\text{在 } Rt\triangle DHE \text{ 中, 则 } DE=\sqrt{DH^2+HE^2}=\sqrt{2+1}=\sqrt{3},$$

由相交弦定理可得： $CE \cdot DE=AE \cdot EB$ ，

$$\therefore CE=\frac{AE \cdot EB}{DE}=\frac{1 \times 2}{\sqrt{3}}=\frac{2\sqrt{3}}{3}.$$

故答案为： $\frac{2\sqrt{3}}{3}$ 。



【点评】本题考查与圆有关的比例线段，考查相交弦定理的应用，是中档题。

13. (5分) (2016•天津) 已知 $f(x)$ 是定义在 R 上的偶函数，且在区间 $(-\infty, 0)$ 上单调递增，若实数 a 满足 $f(2^{|a-1|}) > f(-\sqrt{2})$ ，则 a 的取值范围是 $(\frac{1}{2}, \frac{3}{2})$ 。

【分析】根据函数奇偶性和单调性之间的关系将不等式进行转化进行求解即可。

【解答】解： $\because f(x)$ 是定义在 R 上的偶函数，且在区间 $(-\infty, 0)$ 上单调递增，

$\therefore f(x)$ 在区间 $(0, +\infty)$ 上单调递减，

则 $f(2^{|a-1|}) > f(-\sqrt{2})$ ，等价于 $f(2^{|a-1|}) > f(\sqrt{2})$ ，

即 $-\sqrt{2} < 2^{|a-1|} < \sqrt{2}$ ，

则 $|a-1| < \frac{1}{2}$ ，即 $\frac{1}{2} < a < \frac{3}{2}$ ，

故答案为： $(\frac{1}{2}, \frac{3}{2})$

【点评】本题主要考查不等式的求解，根据函数奇偶性和单调性之间的关系将不等式进行转化是解决本题的关键。

14. (5分) (2016•天津) 设抛物线 $\begin{cases} x=2pt^2 \\ y=2pt \end{cases}$ (t 为参数, $p>0$) 的焦点为 F , 准线为 l ,

过抛物线上一点 A 作 l 的垂线, 垂足为 B , 设 $C(\frac{7}{2}p, 0)$, AF 与 BC 相交于点 E . 若 $|CF|=2|AF|$, 且 $\triangle ACE$ 的面积为 $3\sqrt{2}$, 则 p 的值为 $\sqrt{6}$.

【分析】化简参数方程为普通方程, 求出 F 与 l 的方程, 然后求解 A 的坐标, 利用三角形的面积列出方程, 求解即可.

【解答】解: 抛物线 $\begin{cases} x=2pt^2 \\ y=2pt \end{cases}$ (t 为参数, $p>0$) 的普通方程为: $y^2=2px$ 焦点为 $F(\frac{p}{2}, 0)$

, 如图: 过抛物线上一点 A 作 l 的垂线, 垂足为 B , 设 $C(\frac{7}{2}p, 0)$, AF 与 BC 相交于点 E .

$$|CF|=2|AF|,$$

$$|CF|=3p, |AB|=|AF|=\frac{3}{2}p, A(p, \sqrt{2}p),$$

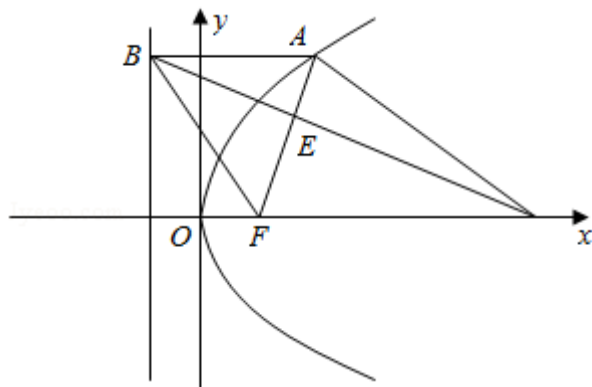
$$\triangle ACE \text{ 的面积为 } 3\sqrt{2}, \frac{AE}{EF} = \frac{AB}{CF} = \frac{1}{2},$$

$$\text{可得 } \frac{1}{3} S_{\triangle AFC} = S_{\triangle ACE}.$$

$$\text{即: } \frac{1}{3} \times \frac{1}{2} \times 3p \times \sqrt{2}p = 3\sqrt{2},$$

$$\text{解得 } p = \sqrt{6}.$$

故答案为: $\sqrt{6}$.



【点评】本题考查抛物线的简单性质的应用, 抛物线的参数方程的应用, 考查分析问题解决问题的能力.

三、计算题

15. (13分) (2016•天津) 已知函数 $f(x) = 4\tan x \sin(\frac{\pi}{2} - x) \cos(x - \frac{\pi}{3}) - \sqrt{3}$.

(1) 求 $f(x)$ 的定义域与最小正周期;

(2) 讨论 $f(x)$ 在区间 $[-\frac{\pi}{4}, \frac{\pi}{4}]$ 上的单调性.

【分析】 (1) 利用三角函数的诱导公式以及两角和差的余弦公式, 结合三角函数的辅助角公式进行化简求解即可.

(2) 利用三角函数的单调性进行求解即可.

【解答】 解: (1) $\because f(x) = 4\tan x \sin\left(\frac{\pi}{2} - x\right) \cos\left(x - \frac{\pi}{3}\right) - \sqrt{3}$.

$\therefore x \neq k\pi + \frac{\pi}{2}$, 即函数的定义域为 $\{x \mid x \neq k\pi + \frac{\pi}{2}, k \in \mathbb{Z}\}$,

则 $f(x) = 4\tan x \cos x \cdot \left(\frac{1}{2}\cos x + \frac{\sqrt{3}}{2}\sin x\right) - \sqrt{3}$

$= 4\sin x \left(\frac{1}{2}\cos x + \frac{\sqrt{3}}{2}\sin x\right) - \sqrt{3}$

$= 2\sin x \cos x + 2\sqrt{3}\sin^2 x - \sqrt{3}$

$= \sin 2x + \sqrt{3}(1 - \cos 2x) - \sqrt{3}$

$= \sin 2x - \sqrt{3}\cos 2x$

$= 2\sin\left(2x - \frac{\pi}{3}\right)$,

则函数的周期 $T = \frac{2\pi}{2} = \pi$;

(2) 由 $2k\pi - \frac{\pi}{2} \leq 2x - \frac{\pi}{3} \leq 2k\pi + \frac{\pi}{2}$, $k \in \mathbb{Z}$,

得 $k\pi - \frac{\pi}{12} \leq x \leq k\pi + \frac{5\pi}{12}$, $k \in \mathbb{Z}$, 即函数的增区间为 $\left[k\pi - \frac{\pi}{12}, k\pi + \frac{5\pi}{12}\right]$, $k \in \mathbb{Z}$,

当 $k=0$ 时, 增区间为 $\left[-\frac{\pi}{12}, \frac{5\pi}{12}\right]$, $k \in \mathbb{Z}$,

$\because x \in \left[-\frac{\pi}{4}, \frac{\pi}{4}\right]$, \therefore 此时 $x \in \left[-\frac{\pi}{12}, \frac{\pi}{4}\right]$,

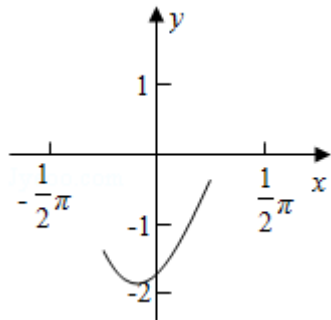
由 $2k\pi + \frac{\pi}{2} \leq 2x - \frac{\pi}{3} \leq 2k\pi + \frac{3\pi}{2}$, $k \in \mathbb{Z}$,

得 $k\pi + \frac{5\pi}{12} \leq x \leq k\pi + \frac{11\pi}{12}$, $k \in \mathbb{Z}$, 即函数的减区间为 $\left[k\pi + \frac{5\pi}{12}, k\pi + \frac{11\pi}{12}\right]$, $k \in \mathbb{Z}$,

当 $k=-1$ 时, 减区间为 $\left[-\frac{7\pi}{12}, -\frac{\pi}{12}\right]$, $k \in \mathbb{Z}$,

$\because x \in \left[-\frac{\pi}{4}, \frac{\pi}{4}\right]$, \therefore 此时 $x \in \left[-\frac{\pi}{4}, -\frac{\pi}{12}\right]$,

即在区间 $\left[-\frac{\pi}{4}, \frac{\pi}{4}\right]$ 上, 函数的减区间为 $\left[-\frac{\pi}{4}, -\frac{\pi}{12}\right]$, 增区间为 $\left[-\frac{\pi}{12}, \frac{\pi}{4}\right]$.



【点评】 本题主要考查三角函数的图象和性质，利用三角函数的诱导公式，两角和差的余弦公式以及辅助角公式将函数进行化简是解决本题的关键。

16. (13分) (2016•天津) 某小组共10人，利用假期参加义工活动，已知参加义工活动次数为1, 2, 3的人数分别为3, 3, 4，现从这10人中随机选出2人作为该组代表参加座谈会。

- (1) 设A为事件“选出的2人参加义工活动次数之和为4”，求事件A发生的概率；
 (2) 设X为选出的2人参加义工活动次数之差的绝对值，求随机变量X的分布列和数学期望。

【分析】 (1) 选出的2人参加义工活动次数之和为4为事件A，求出选出的2人参加义工活动次数之和的所有结果，即可求解概率。则P(A)。

(2) 随机变量X的可能取值为0, 1, 2, 3分别求出P(X=0), P(X=1), P(X=2), P(X=3)的值，由此能求出X的分布列和EX。

【解答】 解：(1) 从10人中选出2人的选法共有 $C_{10}^2=45$ 种，

事件A：参加次数的和为4，情况有：①1人参加1次，另1人参加3次，②2人都参加2次；
 共有 $C_3^1 C_4^1 + C_3^2 = 15$ 种，

$$\therefore \text{事件A发生概率: } P = \frac{C_3^1 C_4^1 + C_3^2}{C_{10}^2} = \frac{1}{3}.$$

(II) X的可能取值为0, 1, 2.

$$P(X=0) = \frac{C_3^2 + C_3^2 + C_4^2}{C_{10}^2} = \frac{4}{15}$$

$$P(X=1) = \frac{C_3^1 C_3^1 + C_3^1 C_4^1}{C_{10}^2} = \frac{7}{15},$$

$$P(X=2) = \frac{C_3^1 C_4^1}{C_{10}^2} = \frac{4}{15},$$

\therefore X的分布列为：

X	0	1	2
P	$\frac{4}{15}$	$\frac{7}{15}$	$\frac{4}{15}$

$$\therefore EX = 0 \times \frac{4}{15} + 1 \times \frac{7}{15} + 2 \times \frac{4}{15} = 1.$$

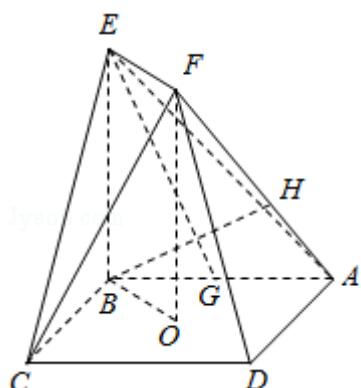
【点评】 本题考查离散型随机变量的分布列和数学期望，是中档题，在历年的高考中都是必考题型。解题时要认真审题，仔细解答，注意古典概型的灵活运用。

17. (13分) (2016•天津) 如图，正方形ABCD的中心为O，四边形OBEF为矩形，平面OBEF \perp 平面ABCD，点G为AB的中点，AB=BE=2。

- (1) 求证：EG // 平面ADF；

(2) 求二面角O - EF - C的正弦值;

(3) 设H为线段AF上的点, 且 $AH = \frac{2}{3}HF$, 求直线BH和平面CEF所成角的正弦值.



【分析】 (1) 取AD的中点I, 连接FI, 证明四边形EFIG是平行四边形, 可得 $EG \parallel FI$, 利用线面平行的判定定理证明: $EG \parallel$ 平面ADF;

(2) 建立如图所示的坐标系O - xyz, 求出平面OEF的法向量, 平面OEF的法向量, 利用向量的夹角公式, 即可求二面角O - EF - C的正弦值;

(3) 求出 $\vec{BH} = (-\frac{3\sqrt{2}}{5}, \sqrt{2}, \frac{4}{5})$, 利用向量的夹角公式求出直线BH和平面CEF所成角的正弦值.

【解答】 (1) 证明: 取AD的中点I, 连接FI,

\because 矩形OBEF, $\therefore EF \parallel OB, EF = OB,$

\because G, I是中点,

$\therefore GI \parallel BD, GI = \frac{1}{2}BD.$

\because O是正方形ABCD的中心,

$\therefore OB = \frac{1}{2}BD.$

$\therefore EF \parallel GI, EF = GI,$

\therefore 四边形EFIG是平行四边形,

$\therefore EG \parallel FI,$

$\because EG \notin$ 平面ADF, $FI \subset$ 平面ADF,

$\therefore EG \parallel$ 平面ADF;

(2) 解: 建立如图所示的坐标系O - xyz, 则 $B(0, -\sqrt{2}, 0), C(\sqrt{2}, 0, 0), E(0, -\sqrt{2}, 2),$

$F(0, 0, 2),$

设平面CEF的法向量为 $\vec{\pi} = (x, y, z)$, 则
$$\begin{cases} \sqrt{2}y = 0 \\ -\sqrt{2}x + 2z = 0 \end{cases}, \text{ 取 } \vec{\pi} = (\sqrt{2}, 0, 1)$$

$\because OC \perp$ 平面OEF,

\therefore 平面OEF的法向量为 $\vec{n} = (1, 0, 0),$

$\therefore |\cos \langle \vec{\pi}, \vec{n} \rangle| = \frac{\sqrt{6}}{3}$

∴二面角O - EF - C的正弦值为 $\sqrt{1 - (\frac{\sqrt{6}}{3})^2} = \frac{\sqrt{3}}{3}$;

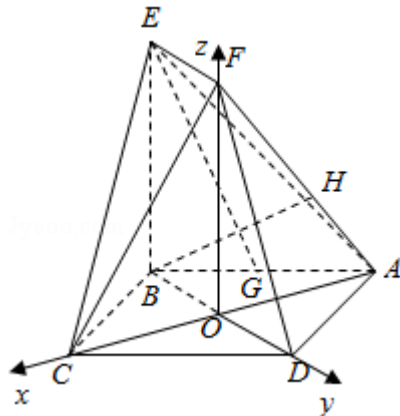
(3) 解: $AH = \frac{2}{3}HF$, ∴ $\vec{AH} = \frac{2}{5}\vec{AF} = (\frac{2\sqrt{2}}{5}, 0, \frac{4}{5})$.

设H(a, b, c), 则 $\vec{AH} = (a + \sqrt{2}, b, c) = (\frac{2\sqrt{2}}{5}, 0, \frac{4}{5})$.

∴ $a = -\frac{3\sqrt{2}}{5}, b = 0, c = \frac{4}{5}$,

∴ $\vec{BH} = (-\frac{3\sqrt{2}}{5}, \sqrt{2}, \frac{4}{5})$,

∴直线BH和平面CEF所成角的正弦值 $= |\cos\langle \vec{BH}, \vec{n} \rangle| = \frac{|\frac{-6}{5} + \frac{4}{5}|}{\sqrt{3} \cdot \frac{2\sqrt{21}}{5}} = \frac{\sqrt{7}}{21}$.



【点评】 本题考查证明线面平行的判定定理, 考查二面角O - EF - C的正弦值, 直线BH和平面CEF所成角的正弦值, 考查学生分析解决问题的能力, 属于中档题.

18. (13分) (2016•天津) 已知 $\{a_n\}$ 是各项均为正数的等差数列, 公差为d, 对任意的 $n \in \mathbb{N}^+$, b_n 是 a_n 和 a_{n+1} 的等比中项.

(1) 设 $c_n = b_{n+1}^2 - b_n^2, n \in \mathbb{N}^+$, 求证: 数列 $\{c_n\}$ 是等差数列;

(2) 设 $a_1 = d, T_n = \sum_{k=1}^{2n} (-1)^k b_k^2, n \in \mathbb{N}^*$, 求证: $\sum_{i=1}^n \frac{1}{T_k} < \frac{1}{2d^2}$.

【分析】 (1) 根据等差数列和等比数列的性质, 建立方程关系, 根据条件求出数列 $\{c_n\}$ 的通项公式, 结合等差数列的定义进行证明即可.

(2) 求出 $T_n = \sum_{k=1}^{2n} (-1)^k b_k^2$ 的表达式, 利用裂项法进行求解, 结合放缩法进行不等式的

证明即可.

【解答】 证明: (1) ∵ $\{a_n\}$ 是各项均为正数的等差数列, 公差为d, 对任意的 $n \in \mathbb{N}^+$, b_n 是 a_n 和 a_{n+1} 的等比中项.

∴ $c_n = b_{n+1}^2 - b_n^2 = a_{n+1}a_{n+2} - a_n a_{n+1} = 2da_{n+1}$,

$\therefore c_{n+1} - c_n = 2d(a_{n+2} - a_{n+1}) = 2d^2$ 为定值;

\therefore 数列 $\{c_n\}$ 是等差数列;

$$(2) T_n = \sum_{k=1}^{2n} (-1)^k b_k^2 = (-b_1^2 + b_2^2) + (-b_3^2 + b_4^2) + \dots + (-b_{2n-1}^2 + b_{2n}^2) = 2d(a_2 + a_4 + \dots + a_{2n}) = 2d \cdot \frac{n(a_2 + a_{2n})}{2} = 2d^2 n(n+1),$$

$$\therefore \sum_{i=1}^n \frac{1}{T_k} = \frac{1}{2d^2} \sum_{k=1}^n \frac{1}{k(k+1)} = \frac{1}{2d^2} \left(1 - \frac{1}{2} + \frac{1}{2} - \frac{1}{3} + \dots + \frac{1}{n} - \frac{1}{n+1}\right) = \frac{1}{2d^2} \left(1 - \frac{1}{n+1}\right) < \frac{1}{2d^2}.$$

即不等式 $\sum_{i=1}^n \frac{1}{T_k} < \frac{1}{2d^2}$ 成立.

【点评】 本题主要考查递推数列的应用以及数列与不等式的综合, 根据等比数列和等差数列的性质分别求出对应的通项公式以及利用裂项法进行求解是解决本题的关键. 综合性较强, 有一定的难度.

19. (14分) (2016•天津) 设椭圆 $\frac{x^2}{a^2} + \frac{y^2}{3} = 1$ ($a > \sqrt{3}$) 的右焦点为 F , 右顶点为 A . 已知

$$\frac{1}{|OF|} + \frac{1}{|OA|} = \frac{3e}{|FA|},$$
 其中 O 为原点, e 为椭圆的离心率.

(1) 求椭圆的方程;

(2) 设过点 A 的直线 l 与椭圆交于点 B (B 不在 x 轴上), 垂直于 l 的直线与 l 交于点 M , 与 y 轴于点 H , 若 $BF \perp HF$, 且 $\angle MOA \leq \angle MAO$, 求直线 l 的斜率的取值范围.

【分析】 (1) 由题意画出图形, 把 $|OF|$ 、 $|OA|$ 、 $|FA|$ 代入 $\frac{1}{|OF|} + \frac{1}{|OA|} = \frac{3e}{|FA|}$, 转化为

关于 a 的方程, 解方程求得 a 值, 则椭圆方程可求;

(2) 由已知设直线 l 的方程为 $y = k(x - 2)$, ($k \neq 0$), 联立直线方程和椭圆方程, 化为关于 x 的一元二次方程, 利用根与系数的关系求得 B 的坐标, 再写出 MH 所在直线方程, 求出 H 的坐标, 由 $BF \perp HF$, 得 $\overrightarrow{BF} \cdot \overrightarrow{HF} = (1 - x_1, -y_1) \cdot (1, -y_H) = 0$, 整理得到 M 的坐标

与 k 的关系, 由 $\angle MOA \leq \angle MAO$, 得到 $x_0 \geq 1$, 转化为关于 k 的不等式求得 k 的范围.

【解答】 解: (1) 由 $\frac{1}{|OF|} + \frac{1}{|OA|} = \frac{3e}{|FA|}$, 得 $\frac{1}{\sqrt{a^2 - 3}} + \frac{1}{a} = \frac{3 \cdot \frac{\sqrt{a^2 - 3}}{a}}{a - \sqrt{a^2 - 3}}$,

$$\text{即 } \frac{a + \sqrt{a^2 - 3}}{a \cdot \sqrt{a^2 - 3}} = \frac{3\sqrt{a^2 - 3}}{a(a - \sqrt{a^2 - 3})},$$

$\therefore a[a^2 - (a^2 - 3)] = 3a(a^2 - 3)$, 解得 $a = 2$.

\therefore 椭圆方程为 $\frac{x^2}{4} + \frac{y^2}{3} = 1$;

(2) 由已知设直线l的方程为 $y = k(x - 2)$, ($k \neq 0$),
 设 $B(x_1, y_1)$, $M(x_0, k(x_0 - 2))$,

$\therefore \angle MOA \leq \angle MAO$,

$\therefore x_0 \geq 1$,

再设 $H(0, y_H)$,

联立
$$\begin{cases} y = k(x - 2) \\ \frac{x^2}{4} + \frac{y^2}{3} = 1 \end{cases}$$
, 得 $(3 + 4k^2)x^2 - 16k^2x + 16k^2 - 12 = 0$.

$\Delta = (-16k^2)^2 - 4(3 + 4k^2)(16k^2 - 12) = 144 > 0$.

由根与系数的关系得 $2x_1 = \frac{16k^2 - 12}{3 + 4k^2}$,

$\therefore x_1 = \frac{8k^2 - 6}{3 + 4k^2}$, $y_1 = k(x_1 - 2) = \frac{-12k}{3 + 4k^2}$,

MH所在直线方程为 $y - k(x_0 - 2) = -\frac{1}{k}(x - x_0)$,

令 $x = 0$, 得 $y_H = (k + \frac{1}{k})x_0 - 2k$,

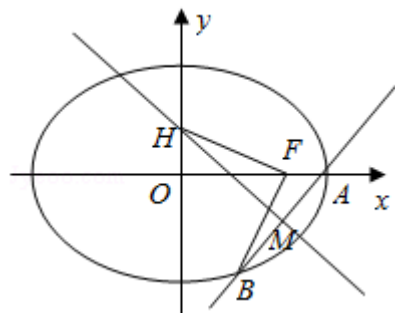
$\therefore BF \perp HF$,

$\therefore \vec{BF} \cdot \vec{HF} = (1 - x_1, -y_1) \cdot (1, -y_H) = 0$,

即 $1 - x_1 + y_1 y_H = 1 - \frac{8k^2 - 6}{3 + 4k^2} - \frac{12k}{3 + 4k^2} [(k + \frac{1}{k})x_0 - 2k] = 0$,

整理得: $x_0 = \frac{9 + 20k^2}{12(k^2 + 1)} \geq 1$, 即 $8k^2 \geq 3$.

$\therefore k \leq -\frac{\sqrt{6}}{4}$ 或 $k \geq \frac{\sqrt{6}}{4}$.



【点评】 本题考查椭圆方程的求法, 考查直线与椭圆位置关系的应用, 体现了“整体运算”思想方法和“设而不求”的解题思想方法, 考查运算能力, 是难题.

20. (14分) (2016•天津) 设函数 $f(x) = (x-1)^3 - ax - b$, $x \in \mathbb{R}$, 其中 $a, b \in \mathbb{R}$.

(1) 求 $f(x)$ 的单调区间;

(2) 若 $f(x)$ 存在极值点 x_0 , 且 $f(x_1) = f(x_0)$, 其中 $x_1 \neq x_0$, 求证: $x_1 + 2x_0 = 3$;

(3) 设 $a > 0$, 函数 $g(x) = |f(x)|$, 求证: $g(x)$ 在区间 $[0, 2]$ 上的最大值不小于 $\frac{1}{4}$.

【分析】 (1) 求出 $f(x)$ 的导数, 讨论 $a \leq 0$ 时, $f'(x) \geq 0$, $f(x)$ 在 \mathbb{R} 上递增; 当 $a > 0$ 时, 由导数大于 0, 可得增区间; 导数小于 0, 可得减区间;

(2) $f'(x_0) = 0$, 可得 $3(x_0 - 1)^2 = a$, 分别计算 $f(x_0)$, $f(3 - 2x_0)$, 化简整理即可得证;

(3) 要证 $g(x)$ 在区间 $[0, 2]$ 上的最大值不小于 $\frac{1}{4}$, 即证在 $[0, 2]$ 上存在 x_1, x_2 , 使得 $g(x_1) - g(x_2) \geq \frac{1}{2}$. 讨论当 $a \geq 3$ 时, 当 $0 < a < 3$ 时, 运用单调性和极值, 化简整理即可得证.

【解答】 解: (1) 函数 $f(x) = (x-1)^3 - ax - b$ 的导数为

$$f'(x) = 3(x-1)^2 - a,$$

当 $a \leq 0$ 时, $f'(x) \geq 0$, $f(x)$ 在 \mathbb{R} 上递增;

当 $a > 0$ 时, 当 $x > 1 + \sqrt{\frac{a}{3}}$ 或 $x < 1 - \sqrt{\frac{a}{3}}$ 时, $f'(x) > 0$,

当 $1 - \sqrt{\frac{a}{3}} < x < 1 + \sqrt{\frac{a}{3}}$ 时, $f'(x) < 0$,

可得 $f(x)$ 的增区间为 $(-\infty, 1 - \sqrt{\frac{a}{3}})$, $(1 + \sqrt{\frac{a}{3}}, +\infty)$, 减区间为 $(1 - \sqrt{\frac{a}{3}}, 1 + \sqrt{\frac{a}{3}})$;

(2) 证明: $f'(x_0) = 0$, 可得 $3(x_0 - 1)^2 = a$,

$$\text{由 } f(x_0) = (x_0 - 1)^3 - 3x_0(x_0 - 1)^2 - b = (x_0 - 1)^2(-2x_0 - 1) - b,$$

$$f(3 - 2x_0) = (2 - 2x_0)^3 - 3(3 - 2x_0)(x_0 - 1)^2 - b$$

$$= (x_0 - 1)^2(8 - 8x_0 - 9 + 6x_0) - b = (x_0 - 1)^2(-2x_0 - 1) - b,$$

即为 $f(3 - 2x_0) = f(x_0) = f(x_1)$,

即有 $3 - 2x_0 = x_1$, 即为 $x_1 + 2x_0 = 3$;

(3) 证明: 要证 $g(x)$ 在区间 $[0, 2]$ 上的最大值不小于 $\frac{1}{4}$,

即证在 $[0, 2]$ 上存在 x_1, x_2 , 使得 $g(x_1) - g(x_2) \geq \frac{1}{2}$.

当 $a \geq 3$ 时, $f(x)$ 在 $[0, 2]$ 递减, $f(2) = 1 - 2a - b$, $f(0) = -1 - b$,

$f(0) - f(2) = 2a - 2 \geq 4 > \frac{1}{2}$, 递减, 成立;

$$\text{当 } 0 < a < 3 \text{ 时, } f(1 - \sqrt{\frac{a}{3}}) = (-\sqrt{\frac{a}{3}})^3 - a(1 - \sqrt{\frac{a}{3}}) - b = -\frac{a}{3}\sqrt{\frac{a}{3}} - a + a\sqrt{\frac{a}{3}} - b$$

$$= \frac{2a}{3}\sqrt{\frac{a}{3}} - a - b,$$

$$f(1 + \sqrt{\frac{a}{3}}) = (\sqrt{\frac{a}{3}})^3 - a(1 + \sqrt{\frac{a}{3}}) - b = \frac{a}{3}\sqrt{\frac{a}{3}} - a - a\sqrt{\frac{a}{3}} - b$$

$$= -\frac{2a}{3}\sqrt{\frac{a}{3}} - a - b,$$

$$f(2) = 1 - 2a - b, \quad f(0) = -1 - b,$$

$$f(2) - f(0) = 2 - 2a,$$

若 $0 < a \leq \frac{3}{4}$ 时, $f(2) - f(0) = 2 - 2a \geq \frac{1}{2}$ 成立;

若 $a > \frac{3}{4}$ 时, $f(1 - \sqrt{\frac{a}{3}}) - f(1 + \sqrt{\frac{a}{3}}) = \frac{4a}{3}\sqrt{\frac{a}{3}} > \frac{1}{2}$ 成立.

综上所述, $g(x)$ 在区间 $[0, 2]$ 上的最大值不小于 $\frac{1}{4}$.

【点评】 本题考查导数的运用: 求单调区间和最值, 考查不等式的证明, 注意运用分类讨论的思想方法和转化思想, 考查分析法的证明, 以及化简整理的运算能力, 属于难题.

参与本试卷答题和审题的老师有：sllwyn；双曲线；qiss；546278733@qq.com；sxs123；翔宇老师；沂蒙松；maths；ww方（排名不分先后）

菁优网

2016年8月18日