

2014年陕西高考数学试题（理）

一. 选择题：本大题共 10 小题，每小题 5 分，共 50 分. 在每小题给出的四个选项中，只有一项是符合题目要求的.

1. 已知集合 $M = \{x | x \geq 0, x \in R\}$, $N = \{x | x^2 < 1, x \in R\}$, 则 $M \cap N = (\quad)$

- A. $[0, 1]$ B. $[0, 1)$ C. $(0, 1]$ D. $(0, 1)$

2. 函数 $f(x) = \cos(2x - \frac{\pi}{6})$ 的最小正周期是 (\quad)

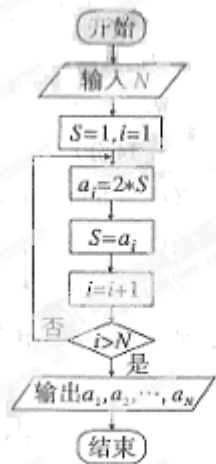
- A. $\frac{\pi}{2}$ B. π C. 2π D. 4π

3. 定积分 $\int_0^1 (2x + e^x) dx$ 的值为 (\quad)

- A. $e + 2$ B. $e + 1$ C. e D. $e - 1$

4. 根据右边框图，对大于 2 的整数 N ，得出数列的通项公式是 (\quad)

- A. $a_n = 2n$ B. $a_n = 2(n-1)$ C. $a_n = 2^n$ D. $a_n = 2^{n-1}$



5. 已知底面边长为 1，侧棱长为 $\sqrt{2}$ 则正四棱柱的各顶点均在同一个球面上，则该球的体积为 (\quad)

- A. $\frac{32\pi}{3}$ B. 4π C. 2π D. $\frac{4\pi}{3}$

6. 从正方形四个顶点及其中心这 5 个点中，任取 2 个点，则这 2 个点的距离不小于该正方形边长的概率为 (\quad)

- A. $\frac{1}{5}$ B. $\frac{2}{5}$ C. $\frac{3}{5}$ D. $\frac{4}{5}$

7. 下列函数中，满足 “ $f(x+y) = f(x)f(y)$ ” 的单调递增函数是 (\quad)

- (A) $f(x) = x^{\frac{1}{2}}$ (B) $f(x) = x^3$ (C) $f(x) = \left(\frac{1}{2}\right)^x$ (D) $f(x) = 3^x$

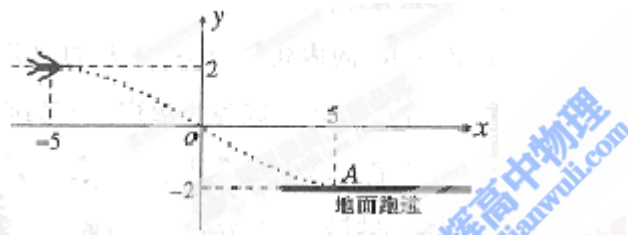
8.原命题为“若 z_1, z_2 互为共轭复数, 则 $|z_1| = |z_2|$ ”, 关于逆命题, 否命题, 逆否命题真假性的判断依次如下, 正确的是 ()

- (A) 真, 假, 真 (B) 假, 假, 真 (C) 真, 真, 假 (D) 假, 假, 假

9.设样本数据 x_1, x_2, \dots, x_{10} 的均值和方差分别为 1 和 4, 若 $y_i = x_i + a$ (a 为非零常数, $i = 1, 2, \dots, 10$), 则 y_1, y_2, \dots, y_{10} 的均值和方差分别为 ()

- (A) $1+a, 4$ (B) $1+a, 4+a$ (C) $1, 4$ (D) $1, 4+a$

10.如图, 某飞行器在 4 千米高空水平飞行, 从距着陆点 A 的水平距离 10 千米处下降, 已知下降飞行轨迹为某三次函数图像的一部分, 则函数的解析式为 ()



- (A) $y = \frac{1}{125}x^3 - \frac{3}{5}x$ (B) $y = \frac{2}{125}x^3 - \frac{4}{5}x$
 (C) $y = \frac{3}{125}x^3 - x$ (D) $y = -\frac{3}{125}x^3 + \frac{1}{5}x$

二、填空题: 把答案填写在答题卡相应题号后的横线上 (本大题共 5 小题, 每小题 5 分, 共 25 分).

11.已知 $4^a = 2, \lg x = a$, 则 $x =$ _____.

12.若圆 C 的半径为 1, 其圆心与点 $(1,0)$ 关于直线 $y = x$ 对称, 则圆 C 的标准方程为_____.

13. 设 $0 < \theta < \frac{\pi}{2}$, 向量 $\vec{a} = (\sin 2\theta, \cos \theta), \vec{b} = (\cos \theta, 1)$, 若 $\vec{a} \parallel \vec{b}$, 则 $\tan \theta =$ _____.

14. 观察分析下表中的数据:

多面体	面数 (F)	顶点数 (V)	棱数 (E)
三棱锥	5	6	9
五棱锥	6	6	10
立方体	6	8	12

猜想一般凸多面体中, F, V, E 所满足的等式是_____.

15. (考生注意: 请在下列三题中任选一题作答, 如果多做, 则按所做的第一题评分)

A. (不等式选做题) 设 $a, b, m, n \in R$, 且 $a^2 + b^2 = 5, ma + nb = 5$, 则 $\sqrt{m^2 + n^2}$ 的最小值为_____

B. (几何证明选做题) 如图, $\triangle ABC$ 中, $BC = 6$, 以 BC 为直径的半圆分别交 AB, AC 于点 E, F , 若 $AC = 2AE$, 则 $EF =$ _____



C. (坐标系与参数方程选做题) 在极坐标系中, 点 $(2, \frac{\pi}{6})$ 到直线 $\rho \sin(\theta - \frac{\pi}{6}) = 1$ 的距离是_____

三、解答题: 解答应写出文字说明、证明过程或演算步骤 (本大题共 6 小题, 共 75 分)

16. (本小题满分 12 分)

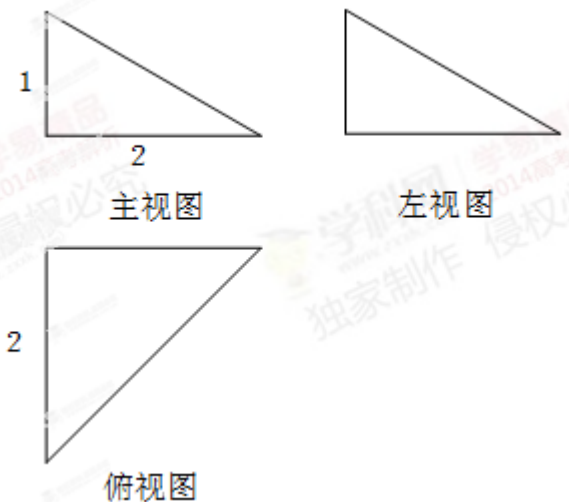
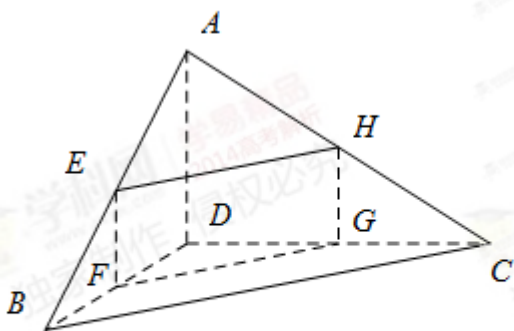
$\triangle ABC$ 的内角 A, B, C 所对的边分别为 a, b, c .

(1) 若 a, b, c 成等差数列, 证明: $\sin A + \sin C = 2 \sin(A + C)$;

(2) 若 a, b, c 成等比数列, 求 $\cos B$ 的最小值.

17. (本小题满分 12 分)

四面体 $ABCD$ 及其三视图如图所示, 过棱 AB 的中点 E 作平行于 AD, BC 的平面分别交四面体的棱 BD, DC, CA 于点 F, G, H .



(1) 证明: 四边形 $EFGH$ 是矩形;

(2) 求直线 AB 与平面 $EFGH$ 夹角 θ 的正弦值.

18. (本小题满分 12 分)

在直角坐标系 xOy 中, 已知点 $A(1,1), B(2,3), C(3,2)$, 点 $P(x, y)$ 在 $\triangle ABC$ 三边围成的区域 (含边界) 上

(1) 若 $\vec{PA} + \vec{PB} + \vec{PC} = \vec{0}$, 求 $|\vec{OP}|$;

(2) 设 $\vec{OP} = m\vec{AB} + n\vec{AC} (m, n \in \mathbb{R})$, 用 x, y 表示 $m - n$, 并求 $m - n$ 的最大值.

19. (本小题满分 12 分)

在一块耕地上种植一种作物, 每季种植成本为 1000 元, 此作物的市场价格和这块地上的产量均具有随机性, 且互不影响, 其具体情况如下表:

作物产量 (kg)	300	500	作物市场价格 (元/kg)	6	10
概率	0.5	0.5	概率	0.4	0.6

(1) 设 X 表示在这块地上种植 1 季此作物的利润, 求 X 的分布列;

(2) 若在这块地上连续 3 季种植此作物, 求这 3 季中至少有 2 季的利润不少于 2000 元的概率.

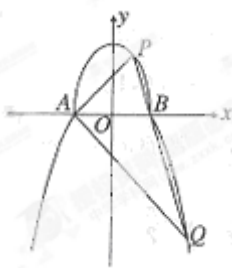
20. (本小题满分 13 分)

如图, 曲线 C 由上半椭圆 $C_1: \frac{y^2}{a^2} + \frac{x^2}{b^2} = 1 (a > b > 0, y \geq 0)$ 和部分抛物线 $C_2: y = -x^2 + 1 (y \leq 0)$ 连接

而成, C_1, C_2 的公共点为 A, B , 其中 C_1 的离心率为 $\frac{\sqrt{3}}{2}$.

(1) 求 a, b 的值;

(2) 过点 B 的直线 l 与 C_1, C_2 分别交于 P, Q (均异于点 A, B), 若 $AP \perp AQ$, 求直线 l 的方程.



21. (本小题满分 14 分)

设函数 $f(x) = \ln(1+x), g(x) = xf'(x), x \geq 0$, 其中 $f'(x)$ 是 $f(x)$ 的导函数.

- (1) $g_1(x) = g(x), g_{n+1}(x) = g(g_n(x)), n \in N_+$, 求 $g_n(x)$ 的表达式;
- (2) 若 $f(x) \geq ag(x)$ 恒成立, 求实数 a 的取值范围;
- (3) 设 $n \in N_+$, 比较 $g(1) + g(2) + \cdots + g(n)$ 与 $n - f(n)$ 的大小, 并加以证明.