

1995 年福建高考文科数学真题及答案

本试卷分第 I 卷(选择题)和第 II 卷(非选择题)两部分, 满分 150 分, 考试时间 120 分钟.

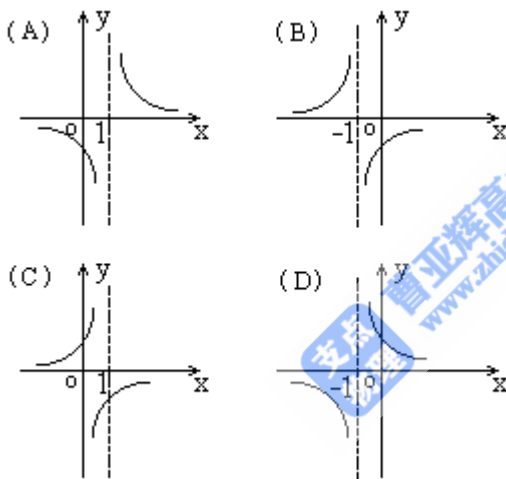
第 I 卷(选择题共 65 分)

一、选择题(本大题共 15 小题; 第 1—10 题每小题 4 分, 第 11—15 题每小题 5 分, 共 65 分, 在每小题给出的四个选项中, 只有一项有符合题目要求的) .

1. 已知集合 $F = \{0, -1, -2, -3, -4\}$, 集合 $M = \{0, -1, -2, \dots\}$, $N = \{0, -3, -4\}$, 则 $\bar{M} \cap N = (\quad)$

- (A) $\{0\}$ (B) $\{-3, -4\}$ (C) $\{-1, -2\}$ (D) ϕ

2. 函数 $y = \frac{1}{x+1}$ 的图像是()



3. 函数 $y = 4\sin(3x + \frac{\pi}{4}) + 3\cos(3x + \frac{\pi}{4})$ 的最小正周期是()

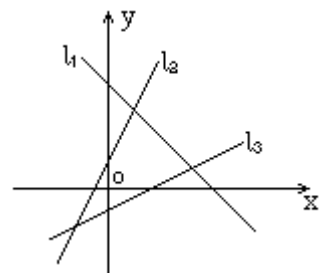
- (A) 6π (B) 2π (C) $\frac{2\pi}{3}$ (D) $\frac{\pi}{3}$

4. 正方体的全面积是 a^2 , 它的顶点都在球面上, 这个球的表面积是()

- (A) $\frac{\pi a^2}{3}$ (B) $\frac{\pi a^2}{2}$ (C) $2\pi a^2$ (D) $3\pi a^2$

5. 若图中的直线 l_1, l_2, l_3 的斜率分别为 k_1, k_2, k_3 , 则 ()

- (A) $k_1 < k_2 < k_3$
 (B) $k_3 < k_1 < k_2$



(C) $k_3 < k_2 < k_1$

(D) $k_1 < k_3 < k_2$

6. 双曲线 $3x^2 - y^2 = 3$ 的渐近线方程是()

(A) $y = \pm 3x$

(B) $\pm \frac{x}{3}$

(C) $y = \pm \sqrt{3}x$

(D) $y = \pm \frac{\sqrt{3}}{3}x$

7. 使 $\sin x \leq \cos x$ 成立的 x 的一个变化区间是()

(A) $\left[-\frac{3}{4}\pi, \frac{\pi}{4}\right]$

(B) $\left[-\frac{\pi}{2}, \frac{\pi}{2}\right]$

(C) $\left[-\frac{\pi}{4}, \frac{3\pi}{4}\right]$

(D) $[0, \pi]$

8. $x^2 + y^2 - 2x = 0$ 和 $x^2 + y^2 + 4y = 0$ 的位置关系是()

(A) 相离

(B) 外切

(C) 相交

(D) 内切

9. 已知 θ 是第三象限角, 且 $\sin^4 \theta + \cos^4 \theta = \frac{5}{9}$, 那么 $\sin 2\theta$ 等于()

(A) $\frac{2\sqrt{2}}{3}$

(B) $-\frac{2\sqrt{2}}{3}$

(C) $\frac{2}{3}$

(D) $-\frac{2}{3}$

10. 如图 $ABCD - A_1B_1C_1D_1$ 是正方体, E_1, F_1 是 A_1B_1, D_1C_1 的中点, 则 BE_1 与 DF_1 所成的角的余弦值是()

(A) $\frac{15}{17}$

(B) $\frac{1}{2}$

(C) $\frac{8}{17}$

(D) $\frac{\sqrt{3}}{2}$



11. 已知 $y = \log_a(2-x)$ 是 x 的增函数, 则 a 的取值范围是()

(A) $(0, 2)$

(B) $(0, 1)$

(C) $(1, 2)$

(D) $(2, +\infty)$

12. 在 $(1-x^3)(1+x)^{10}$ 的展开式中, x^5 的系数是()

(A) -297

(B) -252

(C) 297

(D) 207

13. 已知直线 $l \perp$ 平面 α , 直线 $m \subset$ 平面 β , 有下面四个命题,

① $\alpha \parallel \beta \Rightarrow l \perp m$

② $\alpha \perp \beta \Rightarrow l \parallel m$

③ $l \parallel m \Rightarrow \alpha \perp \beta$

④ $l \perp m \Rightarrow \alpha \parallel \beta$

其中正确的两个命题是()

(A) ①与②

(B) ③与④

(C) ②与④

(D) ①与③

14. 等差数列 $\{a_n\}$, $\{b_n\}$ 的前 n 项和分别是 S_n 与 T_n , 若 $\frac{S_n}{T_n} = \frac{2n}{3n+1}$, 则 $\lim_{n \rightarrow \infty} \frac{a_n}{b_n}$ 等于()

- (A) 1 (B) $\frac{\sqrt{6}}{3}$ (C) $\frac{2}{3}$ (D) $\frac{4}{9}$

15. 用 1, 2, 3, 4, 5 这五个数字, 组成没有重复数字的三位数, 其中偶数共有 ()

- (A) 24 个 (B) 30 个 (C) 40 个 (D) 60 个

第 II 卷(非选择题共 85 分)

二、填空题(本大题共 5 小题, 每小题 4 分, 共 20 分, 把答案填在题中的横线上)

16. 方程 $\log_2(x+1)^2 + \log_4(x+1) = 5$ 的解是_____.

17. 已知圆台上、下底面圆周都在球面上, 且下底面过球心, 母线与底面所成角为 $\frac{\pi}{3}$, 则圆台的体积与球体积之比为_____.

18. 函数 $y = \cos x + \cos(x + \frac{\pi}{3})$ 的最大值是_____.

19. 若直线 l 过抛物线 $y^2 = 4(x+1)$ 的焦点, 并且与 x 轴垂直, 则 l 被抛物线截得的线段长为_____.

20. 四个不同的小球放入编号为 1、2、3、4 的四个盒子中, 则恰有一个空盒的放法共有_____种(用数字作答).

三、解答题(本大题共 6 小题, 共 65 分: 解答应写出文字说明、证明过程或推演步骤)

21. (本小题满分 7 分) 解方程 $3^{x+2} - 3^{2-x} = 80$.

22. (本小题满分 12 分) 设复数 $z = \cos \theta + i \sin \theta$, $\theta \in (\pi, 2\pi)$, 求复数 $z^2 + z$ 的模和辐角.

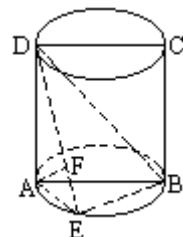
23. (本小题满分 10 分) 设 $\{a_n\}$ 是由正数组成的等比数列, S_n 是其前 n 项和, 证明:

$$\frac{\log_{0.5} S_n + \log_{0.5} S_{n+2}}{2} > \log_{0.5} S_{n+1}.$$

24. (本小题满分 12 分) 如图, $ABCD$ 是圆柱的轴截面, 点 E 在底面的圆周上, $AF \perp DE$, F 是垂足.

(1) 求证: $AF \perp DB$

(2) 如果 $AB = a$, 圆柱与三棱锥 $D-ABE$ 的体积比等于 3π , 求点 E 到截面 $ABCD$ 的距离.



25. (本小题满分 12 分) 某地为促进淡水鱼养殖业的发展, 将价格控制在适当范围内,

决定对淡水鱼养殖提供政府补贴，设淡水鱼的市场价格为 x 元/千克，政府补贴为 t 元/千克，根据市场调查，当 $8 \leq x \leq 14$ 时，淡水鱼的市场日供应量 p 千克与市场日需求量 Q 近似地满足关系：

$$P=1000(x+t-8) \quad (x \geq 8, t \geq 0),$$

$$Q=500\sqrt{40-(x-8)^2} \quad (8 \leq x \leq 14),$$

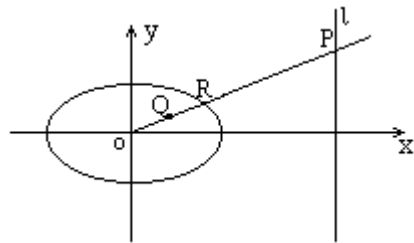
当 $P=Q$ 时的市场价格为市场平衡价格，

(1) 将市场平衡价格表示为政府补贴的函数，并求出函数的定义域：

(2) 为使市场平衡价格不高于每千克 10 元，政府补贴至少每千克多少元？

26. (本小题满分 12 分) 已知椭圆 $\frac{x^2}{24} + \frac{y^2}{16} = 1$ ，直线 l ：

$x=12$ ， P 是 l 上一点，射线 OP 交椭圆于点 R ，又点 Q 在 OP 上，且满足 $|OQ| \cdot |OP| = |OR|^2$ ，当点 P 在 l 上移动时，求点 Q 的轨迹方程，并说明轨迹是什么曲线。



参考答案

一、选择题(本题考查基本知识和基本运算)

1. B 2. D 3. C 4. B 5. D 6. C 7. A 8. C 9. A 10. A 11. B 12. D
13. D 14. C 15. A

二、填空题(本题考查基本知识和基本运算)

16. 3 17. $\frac{7\sqrt{3}}{32}$ 18. $\sqrt{3}$ 19. 4 20. 144

三、解答题

21. 本小题主要考查指数方程的解法及运算能力，

解：设 $y=3^x$ ，则原方程可化为 $9y^2-80y-9=0$ ，

解得： $y_1=9$ ， $y_2=-\frac{1}{9}$

方程 $3^x=-\frac{1}{9}$ 无解，

由 $3^x=9$ 得 $x=2$ ，所以原方程的解为 $x=2$ 。

22. 本小题主要考查复数的有关概念，三角公式及运算能力，

解: $z^2+z=(\cos \theta+i \sin \theta)^2+(\cos \theta+i \sin \theta)$

$$\begin{aligned}
 &= \cos 2 \theta+i \sin 2 \theta+\cos \theta+i \sin \theta \\
 &= 2 \cos \frac{3 \theta}{2} \cos \frac{\theta}{2}+i\left(2 \sin \frac{3 \theta}{2} \cos \frac{\theta}{2}\right) \\
 &= 2 \cos \frac{\theta}{2}\left(\cos \frac{3 \theta}{2}+i \sin \frac{3 \theta}{2}\right) \\
 &= -2 \cos \frac{\theta}{2}\left[\cos \left(-\pi+\frac{3 \theta}{2}\right)+i \sin \left(-\pi+\frac{3 \theta}{2}\right)\right]
 \end{aligned}$$

$$\therefore \theta \in(\pi, 2 \pi)$$

$$\therefore \frac{\theta}{2} \in\left(\frac{\pi}{2}, \pi\right)$$

$$\therefore -2 \cos \left(\frac{\theta}{2}\right)>0$$

所以复数 z^2+z 的模为 $-2 \cos \frac{\theta}{2}$, 辐角 $(2k-1) \pi+\frac{3 \theta}{2}(k \in \mathbb{Z})$.

23. 本小题主要考查等比数列、对数、不等式等基础知识以及逻辑推理能力,

证法一: 设 $\{a_n\}$ 的公比为 q , 由题设知 $a_1>0, q>0$,

(1) 当 $q=1$ 时, $S_n=na_1$, 从而

$$S_n \cdot S_{n+2}-S_{n+1}^2=na_1(n+2) a_1-(n+1)^2 a_1^2=-a_1^2<0.$$

(2) 当 $q \neq 1$ 时, $S_n=\frac{a_1(1-q^n)}{1-q}$, 从而

$$S_n \cdot S_{n+2}-S_{n+1}^2=\frac{a_1^2(1-q^n)(1-q^{n+2})}{(1-q)^2}-\frac{a_1^2(1-q^{n+1})^2}{(1-q)^2}=-a_1^2 q^n<0.$$

由(1)和(2)得 $S_n \cdot S_{n+2}<S_{n+1}^2$.

根据对数函数的单调性, 得 $\log_{0.5}\left(S_n \cdot S_{n+2}\right)>\log_{0.5} S_{n+1}^2$,

$$\text{即 } \frac{\log_{0.5} S_n+\log_{0.5} S_{n+2}}{2}>\log_{0.5} S_{n+1}.$$

证法二: 设 $\{a_n\}$ 的公比为 q , 由题设知 $a_1>0, q>0$,

$$\therefore S_{n+1}=a_1+q S_n,$$

$$S_{n+2}=a_1+q S_{n+1},$$

$$\therefore S_n \cdot S_{n+2}-S_{n+1}^2=S_n\left(a_1+q S_{n+1}\right)-\left(a_1+q S_n\right) S_{n+1}=-a_1\left(S_n-S_{n+1}\right)=-a_1 a_{n+1}<0.$$

即 $S_n \cdot S_{n+2}<S_{n+1}^2$. (以下同证法一)

24. 本小题主要考查空间线面关系、圆柱性质、空间想象能力和逻辑推理能力.

(1) 证明: 根据圆柱性质, $DA \perp$ 平面 ABE ,

$\therefore EB \subset$ 平面 ABE ,

$\therefore DA \perp EB$,

$\therefore AB$ 是圆柱底面的直径, 点 E 在圆周上,

$\therefore AE \perp EB$, 又 $AE \cap AD = A$, 故得 $EB \perp$ 平面 DAE ,

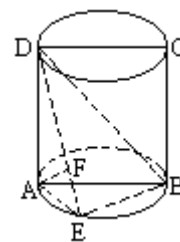
$\therefore AF \subset$ 平面 DAE ,

$\therefore EB \perp AF$,

又 $AF \perp DE$, 且 $EB \cap DE = E$, 故得 $AF \perp$ 平面 DEB ,

$\therefore DB \subset$ 平面 DEB ,

$\therefore AF \perp DB$.



(2) 解: 设点 E 到平面 $ABCD$ 的距离为 d , 记 $AD = h$, 因圆柱轴截面 $ABCD$ 是矩形, 所以 $AD \perp AB$.

$$S_{\triangle ABD} = \frac{1}{2} AB \cdot AD = \frac{ah}{2}$$

$$\therefore V_{D-ABE} = V_{E-ABD} = \frac{d}{3} S_{\triangle ABD} = \frac{1}{6} dah$$

$$\text{又 } V_{\text{圆柱}} = \pi \left(\frac{AB^2}{4} \right) \cdot AD = \frac{\pi}{4} a^2 h$$

$$\text{由题设知 } \frac{\frac{\pi}{4} a^2 h}{\frac{1}{6} dah} = 3\pi, \text{ 即 } d = \frac{a}{2}.$$

25. 本小题主要考查运用所学数学知识和方法解决实际问题的能力, 以及函数的概念、方程和不等式的解法等基础知识和方法.

$$\text{解: (1) 依题设有 } 1000(x+t-8) = 500\sqrt{40-(x-8)^2}$$

$$\text{化简得 } 5x^2 + (8t-80)x + (4t^2 - 64t + 280) = 0,$$

$$\text{当判别式 } \Delta = 800 - 16t^2 \geq 0 \text{ 时, 可得: } x = 8 - \frac{4}{5}t \pm \frac{2}{5}\sqrt{50-t^2}.$$

由 $\Delta \geq 0$, $t \geq 0$, $8 \leq x \leq 14$, 得不等式组:

$$\textcircled{1} \begin{cases} 0 \leq t \leq \sqrt{50} \\ 8 \leq 8 - \frac{4}{5}t + \frac{2}{5}\sqrt{50-t^2} \leq 14 \end{cases}$$

$$\textcircled{2} \begin{cases} 0 \leq t \leq \sqrt{50} \\ 8 \leq 8 - \frac{4}{5}t - \frac{2}{5}\sqrt{50-t^2} \leq 14 \end{cases}$$

解不等式组①，得 $0 \leq t \leq \sqrt{10}$ ，不等式组②无解，故所求的函数关系式为

$$x = 8 - \frac{4}{5}t + \frac{2}{5}\sqrt{50-t^2}$$

函数的定义域为 $[0, \sqrt{10}]$

$$(2) \text{ 为使 } x \leq 10, \text{ 应有 } 8 - \frac{4}{5}t + \frac{2}{5}\sqrt{50-t^2} \leq 10,$$

$$\text{化简得: } t^2 + 4t - 5 \geq 0,$$

解得 $t \geq 1$ 或 $t \leq -5$ ，由于 $t \geq 0$ 知 $t \geq 1$ ，从而政府补贴至少为每千克 1 元。

26. 本小题主要考查直线、椭圆的方程和性质，曲线与方程的关系，轨迹的概念和求法等解析几何的基本思想综合运用知识的能力。

解：设点 P, Q, R 的坐标分别为 $(12, y_p), (x, y),$

(x_R, y_R) 由题设知 $x_R > 0, x > 0,$

由点 R 在椭圆上及点 O, Q, R 共线，得方程组

$$\begin{cases} \frac{x_R^2}{24} + \frac{y_R^2}{16} = 1 & \text{解得} & \begin{cases} x_R^2 = \frac{48x^2}{2x^2 + 3y^2} & \textcircled{1} \\ y_R^2 = \frac{48y^2}{2x^2 + 3y^2} & \textcircled{2} \end{cases} \end{cases}$$

$$\text{由点 } O, Q, P \text{ 共线, 得 } \frac{y_p}{12} = \frac{y}{x}, \text{ 即 } y_p = \frac{12y}{x}. \quad \textcircled{3}$$

由题设 $|OQ| \cdot |OP| = |OR|^2$ 得

$$\sqrt{x^2 + y^2} \cdot \sqrt{12^2 + y_p^2} = \left(\sqrt{x_R^2 + y_R^2}\right)^2$$

将①、②、③式代入上式，整理得点 Q 的轨迹方程

$$(x-1)^2 + \frac{y^2}{\frac{2}{3}} = 1 \quad (x > 0)$$

所以点 Q 的轨迹是以 $(1, 0)$ 为中心，长、短半轴长分别为 1 和 $\frac{\sqrt{6}}{3}$ ，且长轴在 x 轴上的椭圆、

去掉坐标原点。

